

2014年深圳公务员考试行测真题及答案解析

第一部分 常识判断

根据题目要求，在四个选项中选出一个正确答案。

1、社会主义初级阶段理论提出的历史依据是（ ）

- A、我国的基本国情
- B、马克思列宁主义
- C、我国社会主义脱胎于近代半殖民地半封建社会
- D、我国生产力发展的低水平和不均衡

2、党的先进性，归根到底要看（ ）

- A、党在解放生产力、发展生产力中的作用
- B、党在维护和实现最广大人民根本利益中的作用
- C、党在推动先进文化中的作用
- D、党在推动历史前进中的作用

3、根据相关法律法规，下列各类经济组织，无需对自身债务承担无限责任的是（ ）

- A、甲、乙、丙三人合伙开办的律师事务所
- B、小丽在服装市场租下店铺注册成立的服装个体工商户
- C、Z是国有独资钢铁制造公司
- D、小王个人注册登记的从事电子贸易的独资企业

4、（ ），是国家发展战略的核心，是提高综合国力的关键。要坚持走中国特色自主创新道路，把增强自主创新能力贯彻到现代化建设各个方面。

- A、提高自主创新能力，建设创新型国家
- B、加快转变经济发展方式，推动产业结构优化升级
- C、加强能源资源节约和生态环境保护，增强可持续发展能力
- D、独立自主、自力更生，注重速度、结构、质量和效益的统一

5、根据《公务员法》的相关规定，下列（ ）不属于公务员在机关外兼职应符合的条件。

- A、因工作需要
- B、非领导职务公务员
- C、经有关机关批准
- D、不领取兼职报酬

6、2013年11月15日，《中共中央关于全面深化改革若干重大问题的决定》发布，《决定》明确了（ ）是全面深化改革的重点。

- A、政府职能改革

广东公务员考试网整理，应用商店搜索“公考通”，下载安装手机 APP 做题更方便

- B、宏观调控体系改革
- C、行政体制改革
- D、经济体制改革

7、深圳市成海公司是一家依法成立的有限责任公司，在成海公司，（ ）有权决定公司的经营方针。

- A、董事长
- B、董事会
- C、监事会
- D、股东会

8、紧缩性财政政策的功能在于（ ）

- A、实现社会总供给与总需求的基本平衡
- B、抑制社会总需求的增长
- C、增加财政收入
- D、减少财政支出

9、广东省司法厅对深圳市司法局的监督属于（ ）

- A、职能监督
- B、主管监督
- C、司法监督
- D、审计监督

10、将行政领导体制划分为层级制与职能制的依据在于（ ）

- A、行政领导机关中决策人数多少的不同
- B、行政领导体系中各层级领导机关与领导者职权的集中与分散程度的不同
- C、行政领导体系内部各机构的职权性质与范围的不同
- D、上级行政领导机关对下级行政领导机关的指挥、控制方式与程度的不同

11、下列公文用语中，有歧义的一项是（ ）

- A、节假日期间，各地区、各部门要妥善安排好值班和安全、保卫等工作
- B、市纪委决定严厉打击少数违规违纪公务人员
- C、以上意见如可行，建议批转×××办理
- D、你单位《关于开展2014年文化大讲堂系列讲座活动的请示》收悉，现批复如下

12、2013年12月15日，嫦娥三号着陆器与巡视器即（ ）月球车成功分离，并顺利完成互拍。中国探月工程总指挥马兴瑞宣布，嫦娥三号任务取得圆满成功。

- A、揽月号

广东公务员考试网整理，应用商店搜索“公考通”，下载安装手机 APP 做题更方便

- B、登月号
- C、月兔号
- D、玉兔号

13、循环经济应遵循的原则不包括（ ）

- A、减量化原则
- B、高利用原则
- C、再使用原则
- D、再循环原则

14、下列元素，空气中含量最多的是（ ）

- A、氧
- B、氦
- C、氩
- D、氮

15、在香港回归15周年之际，中央政府制定一系列政策措施，加强内地与香港的合作，措施包括赋予深圳（ ）深港现代服务业合作区优惠的税收政策，实行比经济特区更加特殊的先行先试政策。

- A、盐田
- B、赤湾
- C、前海
- D、蛇口

16、马克思主义产生的阶级基础是：无产阶级和资产阶级的矛盾上升为社会的主要矛盾，无产阶级开始作为（ ）政治力量登上历史舞台。

- A、独立的
- B、分散的
- C、暂时依附于资产阶级的
- D、有组织的、团结的

17、下列关于国体与政体的说法，错误的是（ ）

- A、国体决定政体，政体体现国体
- B、中国的国体为人民民主专政
- C、中国的政体是人民代表大会制
- D、常见的资本主义国家国体的种类有总统制、议会制

18、市场交易中不准缺斤少两，以次充好，降低服务标准。这属于市场管理内容中对（ ）

广东公务员考试网整理，应用商店搜索“公考通”，下载安装手机 APP 做题更方便的管理。

- A、市场主体
- B、市场客体
- C、市场价格
- D、市场经营活动和竞争方式

19、2014年3月3日下午，十二届全国人在二次会议广东代表团在北京正式成立，（ ）被推选为代表团团长。

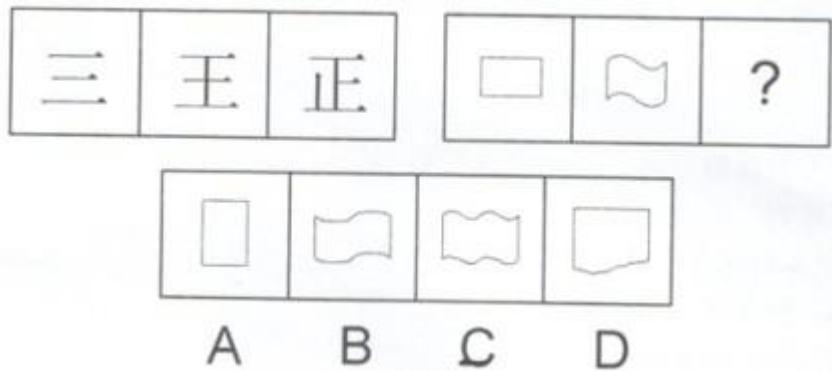
- A、朱小丹
- B、徐少华
- C、肖志雄
- D、黄龙云

20、下列叙述中，不正确的是（ ）

- A、第22届冬季奥林匹克运动会开幕式在俄罗斯索契举行
- B、日前，世界最大规模的比特币交易所因交易平台遭到网络攻击，比特币被盗一空而破产
- C、泰国反政府集会领导人素贴2月底宣布反对派对首都曼谷的“封城”行动将无限期持续，直至推翻英拉政府
- D、韩国总统朴槿惠在“三一”运动95周年纪念大会上敦促日本政府正视历史，承认错误

第二部分 判断推理

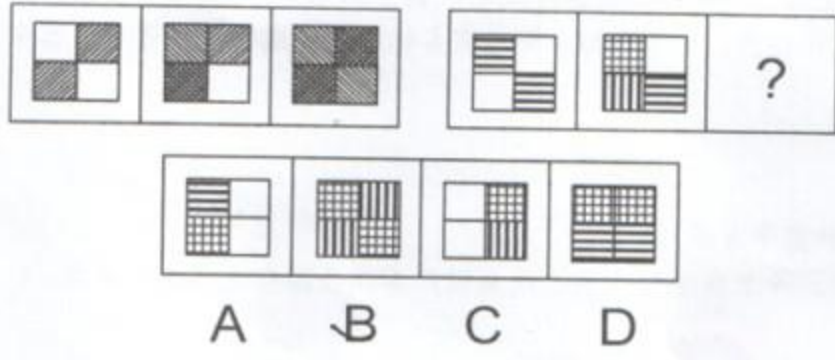
21




- A、A
- B、B
- C、C
- D、D

22

广东公务员考试网整理，应用商店搜索“公考通”，下载安装手机 APP 做题更方便




- A、A
 - B、B
 - C、C
 - D、D
- 23

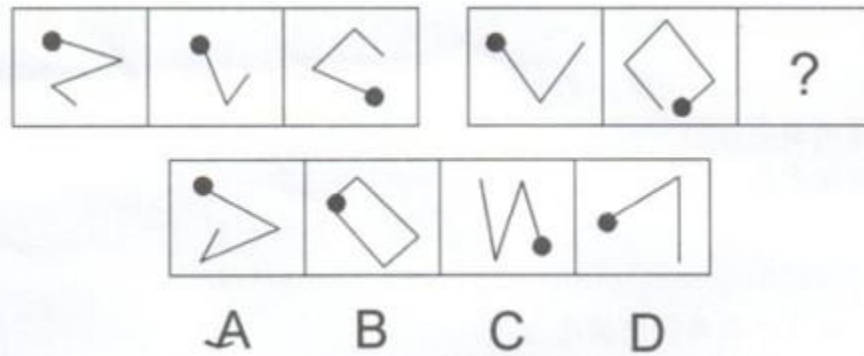


- A、A
 - B、B
 - C、C
 - D、D
- 24

广东公务员考试网整理，应用商店搜索“公考通”，下载安装手机 APP 做题更方便



- A、A
 - B、B
 - C、C
 - D、D
- 25



- A、A
- B、B
- C、C
- D、D

26、(1) 天下兴亡，匹夫有责

(2) 鞠躬尽瘁，死而后已

(3) 人生自古谁无死，留取丹心照汗青

(4) 海纳百川，有容乃大；壁立千仞，无欲则刚

(5) 业精于勤，荒于嬉；行成于思，毁于随

将以上5个句子重新排列，语序正确的是 ()

- A、3-5-2-1-4

广东公务员考试网整理，应用商店搜索“公考通”，下载安装手机 APP 做题更方便

B、2-3-5-4-1

C、2-5-3-1-4

D、3-2-5-4-1

27、（1）出现了电子管数字计算机

（2）大规模集成电路数字计算机问世

（3）使用晶体管数字计算机

（4）使用电子计算器

（5）发明集成电路数字计算机

A、1-4-5-3-2

B、1-5-4-2-3

C、4-1-3-5-2

D、4-5-3-1-2

28、（1）不注意打坏商品

（2）不得已买下商品

（3）拒绝并走开

（4）吃完饭在超市闲逛

（5）推销员前来推销商品

A、1-4-5-3-2

B、1-5-4-2-3

C、4-1-3-5-2

D、4-5-3-1-2

29、（1）伯乐立即判断，这是一匹难得的骏马

（2）伯乐受楚王的委托，购买能日行千里的骏马

（3）跑了好几个国家，还是没发现中意的良马

（4）看到一匹马拉着盐车，很吃力地在陡坡上行进

（5）马见伯乐走进，突然昂起头来瞪大眼睛，大声嘶鸣

A、1-2-3-4-5

B、2-3-4-5-1

C、3-2-4-1-5

D、4-2-3-5-1

30、（1）身体不舒服

（2）病情好转

广东公务员考试网整理，应用商店搜索“公考通”，下载安装手机 APP 做题更方便

- (3) 接受治疗
- (4) 医院检查
- (5) 康复

- A、1-3-5-2-4
- B、1-4-3-2-5
- C、1-5-4-2-3
- D、1-3-4-5-2

31、据统计显示，某市人口发病率在前三名的是咽炎、高血压、糖尿病。其中，高血压和糖尿病的发病率随着年龄的增长而增加，而咽炎在各个年龄段的发病率没有明显的不同，该市在未来10年间，老年人人口比例将呈明显上升态势。

根据题干提供的信息，以下推断最为恰当的是（ ）。

- A、10年后，发病率最高的将是高血压
- B、10年后，发病率最高的将仍是咽炎
- C、在未来10年间，咽炎患者的平均年龄将增大
- D、10年后，咽炎的老年患者将多于非老年患者

32、一起诈骗案经过侦查将目标锁定在赵、李二人身上，赵、李二人都可能是诈骗犯或目击者。已知诈骗犯只说假话，而目击者则只说真话，审讯人员问赵：“你们俩人中肯定有一个是目击者？”赵回答：“没有。”

则赵和李分别是（ ）。

- A、赵是目击者，李是诈骗犯
- B、赵和李都是目击者
- C、赵是诈骗犯，李是目击者
- D、赵和李都是诈骗犯

33、近年来，尤其在一线城市，购买一手新房而非二手房的购房者的比例已经下跌了，部分购房者认为这缘于一手新房价格的上涨。作为价格上涨的依据，他们利用数据证明，即使通过通货膨胀调整，一手新房购买者所付的购房款也远远高于几年前的房价。

下列选项中，最能说明上述购房者的论断缺乏说服力的是：

- A、购买的新房的价值下降得比二手房的价值快得多
- B、新房的购买者比例的下降一定表示二手房购买者的比例已然增加
- C、二手房的销售相对增加可能由所有购房者中仅仅小份额的购房者的决定来解释
- D、数据显示，二手房购买者所付的购房款也远远高于几年前的房价

34、某饭店为了在下一季度进一步吸引顾客、提高利润，决定与团购公司合作，推出优惠

广东公务员考试网整理，应用商店搜索“公考通”，下载安装手机 APP 做题更方便
 团购套餐。该饭店的上述促销计划假设了以下各项，除了：

- A、该饭店能够接待比现在更多的顾客前来用餐
- B、团购公司能够使该饭店的团购优惠让更多的潜在消费者得知
- C、团购套餐的优惠价格跟实际成本相比仍有盈利
- D、团购套餐中的菜式是年轻人所喜欢的

35、有人认为牛奶的浓度与奶牛所吃的有机牧草有关。为了验证这个观点，下列实验方法最可靠的是（ ）。

- A、挑选品种优良的奶牛作为实验样本
- B、化验比较有机牧草与施过化肥的牧草的营养成分
- C、尽可能挑选品种相同、等级一致的两批奶牛，一批使用有机牧草喂养，另一批则使用施过化肥的牧草进行喂养，一段时间后，对比两批奶牛所产牛奶的浓度
- D、对同一批奶牛逐步减少或增加其食物中有机牧草的比例，对比不同时期这批奶牛所产牛奶的浓度

36、在一次介绍英国历史的讲座中，演讲嘉宾介绍：根据1701年制定的英国王位继承法，君主的长子拥有绝对的王位继承优先权。现场听众中有人提出质疑：那不正确，包括现任女王在内，英国历史上有很多女王都继承了王位。

这位现场听众可能产生了以下误解，除了（ ）。

- A、只在君主的长子才能够合法继承王位
- B、英国历届女王都作为第一顺序继承人直接继承了王位
- C、英国历史上诸位女王可能并不都是通过王位继承法合法继承王位的
- D、只有儿子才是合法的王位继承人

37、李明和周强关于喝酒有以下对话：

李明：“我认为，你不该总劝我戒酒。”

周强：“何以见得？”

李明：“至少我没总劝你戒酒啊！”

李明的回答中所隐含的前提是：

- A、如果我总劝你戒酒，你就可以总劝我戒酒
- B、喝酒对身体健康并没有多大危害
- C、喝酒的人不会对不喝酒的人造成什么影响
- D、如果我没总劝你戒酒，你也不应该总劝我戒酒

38、五岳归来不看山，九寨归来不看水，李先生决定以后都不再去游山玩水了，他肯定曾经游览过五岳和九寨。下列各项中与上述句子逻辑推理结构最为相似的是（ ）。

广东公务员考试网整理，应用商店搜索“公考通”，下载安装手机 APP 做题更方便

A、植物甾醇是一种重要的生理活性物质，摄取植物甾醇对降低胆固醇有很大帮助，胆固醇过高的人肯定极少使用植物甾醇含量高的食物

B、绿茶是不发酵的茶叶，红茶是全发酵的茶叶，铁观音是半发酵的茶叶，既不属于绿茶也不属于红茶，所以被称为乌龙茶

C、城市清洁车经过的路面总是湿漉漉的，今天高架上路面非常干爽，清洁车肯定还没有去过

D、肺部疾病很大程度上与吸烟有关，查出肺部有肿瘤的病人通常会选择戒烟，李刚最近打算戒烟，他肯定是已经查出了肺部有肿瘤

39、为了提高计程车司机的收入，F市计程车公司打算更改其计程车收费方案，该公司将在第一个5公里或不到5公里的路程内收取10元起步费，往后每公里收取2元车费；而不是此前的第一个3公里或不到3公里的路程内收取6元起步费，往后每公里收取2元车费，该公司认为上述计划可以达到提高收入的目的，最可能基于以下前提中的（ ）。

A、F市地域非常小，很多人坐计程车不会超过3公里

B、在过去几年的运营中，计程车保养的成本在不断上涨，计程车司机的收入却没有上涨

C、F市经常坐计程车出行的人有时会要求计程车司机不按公司制定的收费方案来收取车费

D、即使计程车使用汽油的价格在上涨，但2元每公里的定价使计程车司机仍有所盈利

40、一家有限公司的股东会成员共有15人，每个股东所持表决权相等。按照公司章程约定，股东会的一般决议需要过半数股东同意方可通过，一旦股东之间形成8人或8人以上的小团体，那其余股东的表决权实际上已经处于无效的状态，假设15个股东之间因为彼此的利益关系结成了人数分别为5、5、3、2的4个小团体，此时每个小团体所持有的表决权不尽相同。

由此可以推出（ ）。

A、人数为5、5、3的小团体所持有的表决权实际上相等，而人数为2的小团体所持有的表决权实际效果为0。

B、人数为5、5、3的小团体所持有的表决权实际上相等，而人数为2的小团体所持有的表决权实际效果为2。

C、若15个人结成的3个小团体，则每个小团体所持有的表决权相等。

D、是否结成小团体不影响股东会进行表决，每个股东所持有的表决权实际效果仍然相等。

第三部分 数量关系

本部分包括数字推理与数学运算两种类型的题目。

41、6，62，214（ ）。

A、500

B、510

广东公务员考试网整理，应用商店搜索“公考通”，下载安装手机 APP 做题更方便

C、342

D、344

42、-5, 20, 95, 220 ()。

A、395

B、367

C、252

D、251

43、7, 9, 23, 41, 87 ()。

A、129

B、137

C、150

D、169

44、5, 5, 15, 75 ()。

A、125

B、350

C、455

D、525

45、-3, 0, 5, 12, 21 ()。

A、29

B、32

C、37

D、35

46、 $1995+1996+1997+1998+1999+2000$ 的值为 ()。

A、12987

B、12985

C、11988

D、11985

47、甲、乙两厂生产同一种汽车，甲厂每月产量保持不变，乙厂每月产量翻番。已知第1各月甲、乙两厂共生产88辆汽车，第2个月甲、乙两厂共生产96辆汽车，那么乙厂每月产量第一次超过甲厂是在第 () 个月。

A、4

B、5

广东公务员考试网整理，应用商店搜索“公考通”，下载安装手机 APP 做题更方便

- C、6
- D、7

48、甲、乙二人从同一地点同时出发，绕西湖匀速背向而行，35分钟后甲、乙二人相遇。已知甲绕西湖一圈需要60分钟，则乙绕西湖一圈需要（ ）分钟。

- A、25
- B、70
- C、80
- D、84

49、玩具店的橱窗里有四种玩具，把四种玩具的价格（均为整数）两两相加得到6个不同的数字，已知其中五个数字为：144、130、125、113、99，则四种玩具中，价格最高的比价格最低的贵（ ）元。

- A、26
- B、31
- C、45
- D、57

50、小王、小李、小张三人决定各自开车自驾游从S市出发前往L市。小张最先出发，若小李比小张晚出发10分钟，则小李出发后40分钟追上小张；若小王又比小李晚出发20分钟，则小王出发后1小时30分钟追上小张；假设S市与L市相距足够远，且三人均匀速形式，则小王出发后（ ）小时追上小李。

- A、1
- B、2
- C、3
- D、5

51、用5、6、7、8四个数字组成五位数，数字可重复，组成的五位数中至少有连续三位是5的数字有（ ）个。

- A、30
- B、33
- C、37
- D、40

52、一个长方体形状的玻璃鱼缸，从鱼缸内测量，它的2个相邻的侧面及底面的面积分别是5、6、7.5平方分米，则这个玻璃鱼缸最多可以装（ ）立方分米的水。

- A、12

广东公务员考试网整理，应用商店搜索“公考通”，下载安装手机 APP 做题更方便

- B、15
- C、16
- D、18

53、甲乙两人各有一堆苹果，如果甲拿12个给乙，那么两个人的苹果数就一样多；如果乙拿12个给甲，那么甲的苹果数就是乙的2倍。则甲、乙共有（ ）个苹果。

- A、120
- B、144
- C、148
- D、154

54、8名同学参加公益义卖活动，义卖结束时筹得的善款前3名的同学平均每人筹得150元，而排名后5名的同学平均每人筹得的善款比8人的平均数少15元，则这8名同学平均每人筹得善款（ ）元。

- A、110
- B、115
- C、120
- D、125

55、往返共用了13.5小时。去时用的时间是回来时用的时间的1.25倍，去的速度比返回时的速度每小时慢6千米。A、B两地之间距离为多少？

- A、150
- B、160
- C、170
- D、180

第四部分 言语理解与表达

每道题给出一段文字，从四个选项中选出一个最恰当的答案。

56、依次填入下列各句横线处的词语，最恰当的一组是（ ）。

- ①在野外露营，如果要采摘蘑菇，一定要能（ ）出有毒和无毒的蘑菇。
- ②几个月来，我国多地遭遇雾霾天气，严重的地区连交通信号灯都难以（ ）。
- ③幸亏我再三（ ），他才勉强相信这件事情并不是因我而起。

- A、分辨 分辨 分辨
- B、分辩 分辩 分辩
- C、分辨 分辩 分辨
- D、分辨 分辨 分辩

广东公务员考试网整理，应用商店搜索“公考通”，下载安装手机 APP 做题更方便

57、依次填入下列各句横线处的词语，最恰当的一组是（ ）。

①西欧的政治与社会制度，在刚有的文字记载的远古时代，即已表现出原始的民主（ ）。

②如果我们只（ ）于现实生活之内，则我们显然无法看清人生的全部，找不到自己的生命方向。

- A、意旨 限定
- B、意旨 局限
- C、意味 限定
- D、意味 局限

58、依次填入下列各句横线处的词语，最恰当的一组是（ ）。

①长期以来，年终检查评比就像吃年夜饭一样，成了许多部门和单位的（ ）。

②从印刷术的普及，到声光电传播，再到信息技术的兴起，任何一次传媒工具的重大（ ），都会带来文化话语权的转移。

③某商业领域之所以成为蓝海，就是现有市场格局中存在未被（ ）的空白领域。

- A、惯例 改革 占据
- B、习惯 变革 占据
- C、惯例 变革 占领
- D、习惯 改革 占领

59、依次填入下列各句横线处的词语，最恰当的一组是（ ）。

云山雾霾之间，一定流动着（ ）的香火气息。登高一望，便会对“人间烟火”这四个常见的文字多了一重超拔的见解与（ ）。

- A、幽静 感悟
- B、清幽 感触
- C、幽静 感触
- D、清幽 感悟

60、依次填入下列各句横线处的词语，最恰当的是（ ）。

色彩绚烂的火烧云，波浪起伏的松花江，三三两两的渔船，构成一幅（ ）的《夕阳鱼归》图。

- A、艳丽
- B、秀丽
- C、绮丽
- D、壮丽

61、依次填入下列各句横线处的词语，最恰当的一组是（ ）。

广东公务员考试网整理，应用商店搜索“公考通”，下载安装手机 APP 做题更方便

- ①想想看，哪一个伟大的作家不是学问（ ）又积极劳动的人呢？
- ②有女儿在身边，她能得到一丝（ ）。
- ③那月色（ ）了我多年内心的创伤，所有的仇恨在一瞬间消融了。
- A、广博 安抚 安慰
B、渊博 安慰 抚慰
C、渊博 抚慰 安抚
D、广博 安慰 安抚

62、依次填入下列各句横线处的词语，最恰当的一组是（ ）。

- ①这价钱哪儿贵呀？这可是（ ）的黄金。
- ②看着乡亲们干劲（ ）地重建家园，县长悬着的心终于放下来。
- ③你放心，本店的商品，分量（ ），童叟无欺。
- A、十足 十足 实足
B、实足 十足 十足
C、十足 实足 十足
D、实足 实足 实足

63、依次填入下列各句横线处的词语，最恰当的一组是（ ）。

要说美，也没有什么美，屋外的路泥泞难走，院中的花零落不堪，夜行的人浑身湿透。但正是在这种情境下，你会感受到往常的世俗（ ）一时浇灭，天上人间只剩下被雨声统一的安定，被雨声（ ）的寂寥。人人都悄然归位，死心塌地地在雨帘包围中默默端坐。

- A、喧嚣 阻隔
B、喧哗 阻碍
C、喧哗 阻隔
D、喧嚣 阻碍

64、依次填入下列各句横线处的词语，最恰当的一组是（ ）。

我们在日常生活中所体验的“经济”有着（ ）的地理属性，没有什么经济是脱离现实生活的。相反，经济是一系列实实在在的真实世界中的过程，是一组伴随着地理空间，并在地理空间的影响下（ ）变化的复杂社会关系。

- A、自然 显明
B、天然 显明
C、自然 显著
D、天然 显著

65、依次填入下列各句横线处的词语，最恰当的一组是（ ）。

广东公务员考试网整理，应用商店搜索“公考通”，下载安装手机 APP 做题更方便

伴随着中国走向世界舞台中央的脚步，春节——这个中华民族的传统节日开始走出华人圈，成为中华文化最（ ）的品牌和符号之一。为了推进对华关系的发展，一些国家的政治家往往借春节来表达他们对发展双边关系的良好（ ）。

- A、美丽 祝愿
- B、亮丽 祝愿
- C、亮丽 祝福
- D、美丽 祝福

66、下列各句中，没有语病的一句为（ ）。

- A、敦煌艺术宝库的保存，使我们有可能来理解一千五百年来的中国艺术的成长。
- B、小苗每天很早到校打扫教室是她热爱班集体的好思想。

C、影片《生死抉择》是一部给人以强烈震撼和深刻警示的反腐倡廉的文艺作品，是党风廉政建设的文艺作品，是党风廉政建设生动教材和重要措施。

D、同时，我们也提醒各位朋友，在没有见到样品之前，不要轻信对那些非正式出版单位上的花言巧语。

67、下列各句中，最通畅、恰当的一句是：

- A、一旦运动员从自我加强的禁锢中解放出来，人类的潜能便会得到惊人的释放
- B、在五十七街，那里有许多鞋店，她会站在那里很久，欣赏着各式各样的皮鞋
- C、她以为这样谈谈很有趣，但倘若话说得太多，或是过分兴奋的时候，那就让人头痛了
- D、屋里的米黄色沙发如果有知，他一定会作证，说这是千真万确的事实

68、下列各句中，有语病的一句是（ ）。

A、人类历史上前所未有的快速现代化和城市化的进程，反映在文化领域，将使我们在相当长的时间内，注定要面对传统与现代并存、高雅与“低俗”共舞的现象。

B、综合海冰实况、未来天气形势及海流预测分析，国家海洋预报台认为，雪龙船撤离的最佳时间窗口为当地时间7日凌晨至8日中午，这期间出现的偏西风有利于海冰冰清缓解，对雪龙船脱困有利。

C、随着网络购物的盛行，商家以次充好、骗取网络订金以及钓鱼网站等网络购物诈骗事件的频率和程度正在增加，网络资金安全已成为网络消费者必须共同面对的挑战。

D、如果以山峰为喻，从山脚的村歌社鼓、到山巅的阳春白雪，不同层次、不同人群、不同类型文化构成的群落，拼贴出文化中国的四季春秋。

69、下列各句中，没有语病的一句为（ ）。

A、学海无涯，公务员要着力持续更新自己的心态和工作水平，不能成为社会主义事业建设的拦路虎。

广东公务员考试网整理，应用商店搜索“公考通”，下载安装手机 APP 做题更方便

B、中国国家羽毛球队的林丹可以堪称羽坛霸主，吊球、推球、扣球技术精湛，让对手防不胜防。

C、那些引起较为严重后果和社会较大关注、成为一时舆论热点的群体性事件和突发性事件充其量不过是属于社会的短期危机，对于这类危机，我们当然不能掉以轻心。

D、周恩来同志为民族的崛起、国家的兴亡不辞辛苦地奋斗了一生尤其为新中国的外交事业做出了长足贡献。

70、下列各句中，没有语病的一句为（ ）。

A、今年持续升温的房地产市场，以及越调越高的畸高房价让“房地产泡沫”一词一直为大家所热议。

B、不管载人深潜对深海潜水器硬件和软件的挑战都非常巨大，技术人员仍克服难关，顺利自主设计并研制出中国第一台载人深海潜水器“蛟龙号”。

C、这一服装品牌发展到今天，在商业上获得巨大的成功，但却离设计者追求艺术的原始初衷越来越远。

D、女人依靠自己的能力在现代社会中生存发展，实现自我价值也未尝不是一种不好的生活方式。

71、下列各句中，没有语病的一句为（ ）。

A、目前我国教育领域的新课程改革的目标之一，在于改变课程内容过于注重书本知识的现状，关注和提高学生的学习兴趣和学习经验。

B、班主任召集班委进行协商，通过民主决议安排了主题班会的主题、时间、内容、环节，以及班会中应注意的问题。

C、林语堂先生认为，最懂得读书之乐者，莫如中国第一女诗人李清照及其夫赵明诚。

D、这就是创造了“楚辞”文体，被后世尊称为“诗歌之父”的爱国主义诗人屈原祠。

72、下列各句中，有语病的一句为（ ）。

A、中方呼吁乌克兰有关各方通过对话和谈判寻求政治途径解决分歧，维护地区和平稳定。

B、怎样才能使改变风气的一时成效转为常态化、长效化，似乎是一个永恒的课题。

C、凯恩斯说，市场的非理性比理性的寿命还长。

D、红嘴鸥被授予“春城”昆明的“荣誉市民”，每年秋冬季节都会来到昆明越冬，与昆明市民人鸥同乐，其乐融融。

73、下列各句中，没有语病的一句为（ ）。

A、司法程序的透明与否，法官素质的高低，法院监督机制的强弱，是做到司法公正的重要保障。

B、百年奥运的历史上，不乏有著名运动员因服用兴奋剂被赛会收回金牌并决定给予取消参

广东公务员考试网整理，应用商店搜索“公考通”，下载安装手机 APP 做题更方便
加下一届奥运会的资格。

C、中国古代钱币最晚在西周就已经出现，发展于东周，统一于秦皇，此后历经汉唐宋元明清两千多年的漫长历史，演进出了系统完整、内容丰富、脉络清晰、内涵博大的中国古代钱币文化。

D、深圳市在司法公开领域的探索和实践卓有成效，尤其是审判公开对普通市民的法律水平有了很大的提高。

74、下列各句中，没有语病的一句为（ ）。

A、近年来，不正之风浸染了节日文化，月饼、大闸蟹、电子卡、年货等节礼越送越奢侈，勤俭节约的传统美德不但渐行渐远，公款购买节礼也不同程度地存在。

B、影片改编自二战真实寻宝行动，讲述一群史学家、艺术家为保卫600万件珍贵艺术品，冒着生命危险深入前线与纳粹周旋，粉碎了希特勒掠夺艺术品和文化遗产、企图建立属于自己的史上最大艺术博物馆。

C、前几年来银川的务工者凭着对秦腔的爱好，组建了“晨曦青年艺术团”，一唱就是3年，如今艺术团已吸收成员30多人，平均年龄大约37岁左右。

D、中华民族的文化基因正是在传统文化资源与现代生活的水乳交融中得以延续，也让我们不管走多远都不至于也不可能无法找到回家的路。

75、把下面几个句子组成语意连贯的一段文字，排序正确的一项是（ ）。

(1) 后母戊鼎的铸造，充分说明商代后期青铜铸造不仅规模宏大，而且组织严密，分工细致。

(2) 鼎身共使用8块陶范，每个鼎足各使用3块陶范，器底及器内各使用4块陶范。

(3) 铸造此鼎，所需金属材料超过1000千克。

(4) 显示出商代青铜铸造业的生产规模与杰出的技术成就，足以代表高度发达的商代青铜文化。

(5) 根据铸痕观察，鼎身与四足为整体铸造。

(6) 后母戊鼎的铸造工艺十分复杂。

(7) 鼎耳则是在鼎身铸成之后再装范浇筑而成。

(8) 而且，制作如此的大型器物，在塑造泥模、翻制陶范、合范灌注等过程中，存在一系列复杂的技术问题，同时必须配备大型熔炉。

A、1-5-2-7-3-6-8-4

B、1-3-2-5-7-6-8-4

C、6-3-2-5-7-1-8-4

D、6-5-2-7-3-8-1-4

广东公务员考试网整理，应用商店搜索“公考通”，下载安装手机 APP 做题更方便

76、美国芝加哥市郊外的霍桑工厂是一个制造电话交换机的工厂。它具有较完善的娱乐设施、医疗制度和养老金制度等，但工人们仍愤愤不平，生产状况也很不理想。为了解决这一问题，工厂一直在竭力地探求原因。

1924年11月，美国国家研究委员会组织了一个由心理学家等多方专家参加的研究小组，在该工厂开展一系列研究试验。这一系列试验的中心课题是生产效率与工作物质条件之间的相互关系。系列试验中有个“谈话试验”，即用两年多的时间，由专家们找工人个别谈话达两万余次。规定在谈话过程中，要耐心倾听工人对厂方的各种意见，并做详细记录；对工人的不满意见一律不准反驳和训斥。这一“谈话试验”收到了意想不到的效果：霍桑工厂的产量大幅度的提高。为什么？这是由于工人长期以来对工厂的各种管理制度和方法有诸多不满，一向无处发泄。“谈话试验”使他们这些不满的情绪得到了充分地发泄，从而感到心情舒畅，干劲倍增。社会心理学家将这种奇妙的现象称为“霍桑效应”。

下列说法中，不正确的一项是（ ）。

- A、“霍桑效应”是在霍桑工厂的研究试验中偶然发现的，初衷是为了找到工厂的客观条件很好的情况下，生产状况不尽如人意的原因。
- B、“谈话试验”就是用接纳和支持的态度给工人一个宣泄的空间和机会。
- C、工人们在不满意情绪得到发泄后，心情舒畅，干劲倍增——使工厂产量大幅度提高。
- D、“霍桑效应”给我们的启示是，关注人们的心理状态是提高工作效率的唯一途径。

77、近日，瑞典公布的一项最新研究结果显示，那些饱受折磨的牛皮癣病患者死于心脏病的可能性要比其他人高很多。

据英国《每日邮报》10月29日报道，由瑞典科学进行的研究发现，对于患牛皮癣病的患者来说，他们实际死于心脏病的概率要比其他人高50%。从年龄角度来看，患者的年龄越小，死于心脏病的风险越大。该项研究所涉及的对象包括约9000名已被确诊并住院治疗的牛皮癣病患者以及1.9万名无需住院治疗的牛皮癣病病人。

瑞典科研人员认为，基因缺陷导致牛皮癣病与心脏病之间建立了“密切”联系。牛皮癣病患者血液中的胆固醇水平往往较高，而这也是衡量一个人是否患有心脏病或血管疾病的重要指标。以前，人们总是把牛皮癣病患者胆固醇水平高归咎于两种原因：其一，认为可能是由于患者年龄偏大造成的；其二，认为可能是由于为治好牛皮癣病而长期服用有副作用的药所造成的。但此次瑞典科研人员在对600名新近被确诊患有牛皮癣病时间不足1年的人进行的研究中发现，这些患者血液中的胆固醇水平从一开始就很高。

下列说法中，不符合原文意义的一项是（ ）。

- A、瑞典的一项研究显示，牛皮癣病患者死于心脏病的风险要高于其他人。
- B、牛皮癣病患者的年龄和死于心脏病的概率成反比。

广东公务员考试网整理，应用商店搜索“公考通”，下载安装手机 APP 做题更方便

C、科研人员认为，牛皮癣病与心脏病之间的“密切”联系是由基因缺陷导致的。

D、牛皮癣病患者年龄偏大以及所服用的药物使得患者胆固醇水平从一开始就很高。

78、机械损伤、化学物质的腐蚀或人体本身自身有的基因缺陷等因素可能会造成牙釉质永久性的缺损和牙齿内部结构的损伤，严重时还会造成牙齿缺失。目前修复牙齿的方法主要是利用非生物材料或人造的填充物修补牙齿，以及直接将种植义齿插入上下颌骨以替代缺少的牙齿，但这些方法都容易使口腔产生异物感，并且由于人体自身的主要组织相容性等原因，可能会引起免疫排斥。随着干细胞生物学、发育生物学和组织工程学的迅猛发展，学者们开始从器官发育的角度出发，根据目前已知的与牙齿发育相关的分子机制，探索将干细胞技术与组织工程技术相结合应用于牙齿的修复和再生研究。

近年来，干细胞治疗的研究成果为牙齿的修复和再生研究奠定了有力的理论基础。根据牙齿的发育特征，牙齿再生需要牙源性的上好处费干细胞和牙源性的间充质干细胞。目前研究表明，牙源性的间充质干细胞可应用于牙齿再生，例如牙髓干细胞和牙周韧带干细胞。但是，人牙源性上皮干细胞仅存在于胚胎期，萌发后的牙齿并不含有牙源性上皮干细胞，因此学者们开始探索将非牙源性干细胞替代牙源性上皮干细胞应用于牙齿再生研究。

根据上述文章，以下选项中正确的是（ ）。

A、目前修复牙齿主要是利用非生物材料或人造填充物，或直接将种植义齿插入上下颌骨以替代缺少的牙齿，因此易使口腔产生异物感，从而引起免疫排斥。

B、学者们从器官发育的角度进行的探索将干细胞技术与组织工程技术相结合应用于牙齿的修复和再生的研究随着干细胞生物学、发育生物学和组织工程学的迅猛发展而取得成果。

C、研究已经表明，牙源性的间充质干细胞例如牙髓干细胞和牙周韧带干细胞可应用于牙齿再生，但根据牙齿的发育特征，牙齿再生还需要牙源性的上皮干细胞。

D、牙齿再生所需要的牙源性上皮干细胞因为在萌发后的牙齿中并不含有，所以学者们使用非牙源性干细胞替代牙源性上皮干细胞应用于牙齿再生。

79、世界上还没有包治百病的万应丹。平常所谓良药，用之得法固然可以起沉痾，但用之不得法也许会杀人。泰戈尔劝人少读书，他对于东方的文艺，虽然洞见症结，结准了毛病发药，可是说给现在的中国人听，实在像煎了一剂催命汤。新中国诚然有许多地方用得着外国朋友的指导，可是不读书那一层是无须劝驾了。

作者这段话主要想表达的观点是（ ）。

A、新中国的发展需要外国朋友的指导

B、现在的中国人本就读书少，不应如泰戈尔所劝人少读书

C、泰戈尔对于东方的文艺可谓洞见症结，对准了毛病发药

D、世界上没有包治百病的万应丹

广东公务员考试网整理，应用商店搜索“公考通”，下载安装手机 APP 做题更方便

80、在网络技术高速发展的当下，县域政府既需要直面城镇化、信息化过程中舆情高发的现实，更需要学习、提高利用网络履职的能力。如何借助网络对舆情事件进行恰当合理的处理、积极回应民众诉求，树立良好的县域网络形象，成为检验县域政府执政能力的重要标尺，迫切需要城市管理者认真思考和积极研究。

这段话直接支持了这样一个论点，即（ ）。

- A、县域网络形象体现了县域政府的执政能力
- B、县域政府当务之急是学习、提高利用网络履职的能力
- C、只有借助网络，才能对舆情事件进行恰当合理的处置
- D、城镇化、信息化带来的舆情高发需要城市管理者认真思考和积极研究

81、中国古代都城的规划建设，特别注重的是突出皇权至上的思想，这一思想的体现莫过于历代对于宫阙正门的精心设计和建筑布局的巧妙构思。天安门就是这种建筑的典型形式。因此，追溯天安门的历史，不能不提到古都北京的历史与演变。天安门和北京城的每一处古城垣一样，都在历史的长河中烙下了深深的印记。

下列说法中，不符合上文意思的一项是（ ）。

- A、皇权至上的思想极大的影响了中国古代都城的规划建设
- B、天安门的历史与北京城的历史与演变有着莫大的关系
- C、作为一座历史悠久的古都，北京城每一处古城垣都体现出历代的精心设计和巧妙构思
- D、天安门是典型的中国封建时代的都城建筑

82、传统的直接连接存储方式完全以服务器为中心，通过线缆直接连接到计算机处理器，并寄生在服务器或客户端上。随着应用系统的扩大和数据量的增长，随着用户对数据服务的要求不断提高，存储方式由传统直连式走向分离式存储。

由此可推各下文将要论述的是（ ）。

- A、“分离式存储”的弊端
- B、“直连式存储”的弊端
- C、“分离式存储”将满足用户的需求
- D、“分离式存储”的含义和形式

83、谣言在网络上传播的时候，为何人们不质疑其真实性，在某种情况下还把它们当作权威的信源呢?主要原因可能在于社会转型期缺乏公共空间发育的不成熟性。这里既有特殊的因素，也有网络世界共性的原因。特殊是指当前的社会文化中缺乏公共空间的概念，缺少公共空间意识，缺失公共空间的维护。共性则是指网络这个看似自由的平台背后，恰恰蕴含着虚拟世界中各个参与者、行动者的不平等性。

这段话支持了这样一种观点，即（ ）。

广东公务员考试网整理，应用商店搜索“公考通”，下载安装手机 APP 做题更方便

- A、谣言在网络上传播时，不仅不会被质疑真实与否，还常被人们当作是权威的信源
- B、人们不质疑网络谣言的真实性的原因在于社会转型期公共空间发育的不成熟性

C、社会转型期公共空间的发育之所以不成熟，是由当前社会文化的特殊性和网络世界的共性共同造成的

- D、防止网络谣言的传播，主要需要解决网络平台背后各个参与者、行动者的不平等性问题

无论是经济、艺术亦或科技，每个行业都有专业术语。专业术语的功能一方面是填补一般用语对某些专有事物或过程未曾命名的空缺，另一方面是为了确保对专有事物或过程的描述更加精确。专业术语在专业性的沟通和交流中必不可少，因为它们为所在领域的专业人士们所认同，在实际应用中就像数学中的方程式一样准确地发挥作用。

不同的专业领域，术语是千差外别的。由于商业、手工业、农林牧渔业等行业自古已有，所以这些行业的术语比较陈旧，且大多由土语或借入语构成，已经融入了大众的日常生活中。因此，尽管有些术语的专业性很强，但由于我们对其熟悉度较高，比起其他行业的术语则更容易被我们理解。法律、医学、神学和哲学领域的一些专业术语也在源远流长的历史发展中被受过良好教育的阶层所熟知应用，继而将其中一部分融入到大众词汇中。

但每个行业都仍有一些让即使受过良好教育的人也感到陌生费解的术语，这些术语在最近的五十年内明显增多，尤其是在自然科学、行政学以及机械技术等领域。在这些领域新鲜提法很容易闪现，尔后又在完成了历史使命后被舍弃。这些新鲜提法大多都仅在特定范围内使用，极少或根本不会被用于日常交流。尽管如此，现如今任何一个行业都不会像过去那样固步自封。

此外，科普使我们每个人都能了解到最新的发现和最前沿的观点。任何重要的实验或项目，哪怕是与大众生活看似相距甚远的学科领域，只要有所发现或突破都会很快被各类媒体所报道，并迅速被人们热议，比如说深海科考或航天技术等。这样一来，人们的日常交流中也会出现专业性话题并时常使用新的专业术语，从而使这些术语越来越普及。

84、根据原文，对“在专业话题的交流中使用专业术语”这一现象理解正确的是（ ）。

- A、这种现象只会出现在特定专业领域内
- B、这种现象类似于在数学中使用方程
- C、这种现象只存在于少数历史发展较为悠久的领域
- D、这种现象可能会成为人们日常交流的一部分

85、根据原文，下列推论正确的是（ ）。

- A、每个人都对科学实验或项目感兴趣
- B、受过良好教育的人熟知并经常应用大部分的专业术语
- C、与大部分行业相比，行政类的专业术语的数量近半个世纪增幅明显
- D、不同的专业和行业经常交换使用专业术语，使专业术语得到普及

第五部分 资料分析

针对下列图、表或文字回答问题。你应该根据资料提供的信息进行分析、比较、计算、处理。

2009年，某省国民经济企稳回升，民生状况不断改善，社会保持和谐稳定，农林牧渔业全面增长。农业增加值1883.4亿元，比上年增长2.7%；林业增加值71.3亿元，比上年增长9.8%；牧业增加值691.1亿元，比上年增长5.2%；渔业增加值459.8亿元，比上年增加6.1%；农林牧渔服务业增加值121.0亿元，比上年增长10.1%。主要农牧产品质优量增。小麦和玉米全部实现优质化，无公害农产品、绿色食品和有机食品基地面积分别达到800万亩、1160万亩和51万亩。畜牧产品产量稳定增长。

该省粮食连续七年实现增产，2009年总产量达到4316.3万吨，比上年增长1.3%，其中夏粮产量为2047.7万吨，比上年增长0.6%；秋粮产量为2268.6万吨，比上年增长1.9%。棉花产量92.1万吨，比上年减少11.5%。油料作物产量334.5万吨，比上年减少1.8%。蔬菜产量8937.2万吨，比上年增长3.5%，增速加快0.8个百分点。园林水果产量为1419.1万吨，比上年增长1.7%。

86、2008年，该省农业增加值为（ ）亿元。

- A、1883.4
- B、1866.8
- C、1850.2
- D、1833.9

87、2008年，除去农林牧渔服务业，该省农林牧渔四个产业的总增加值为（ ）亿元。

- A、2989.1
- B、3014.5
- C、3066.3
- D、3105.6

88、2009年，包括农林牧渔服务业，该省农林牧渔业的总增加值比2008年多（ ）亿元。

- A、112.3
- B、145.7
- C、127.6
- D、185.4

89、2007年，该省蔬菜产量为（ ）万吨。

- A、8325.7
- B、8408.0
- C、8514.7

广东公务员考试网整理，应用商店搜索“公考通”，下载安装手机 APP 做题更方便

D、8635.0

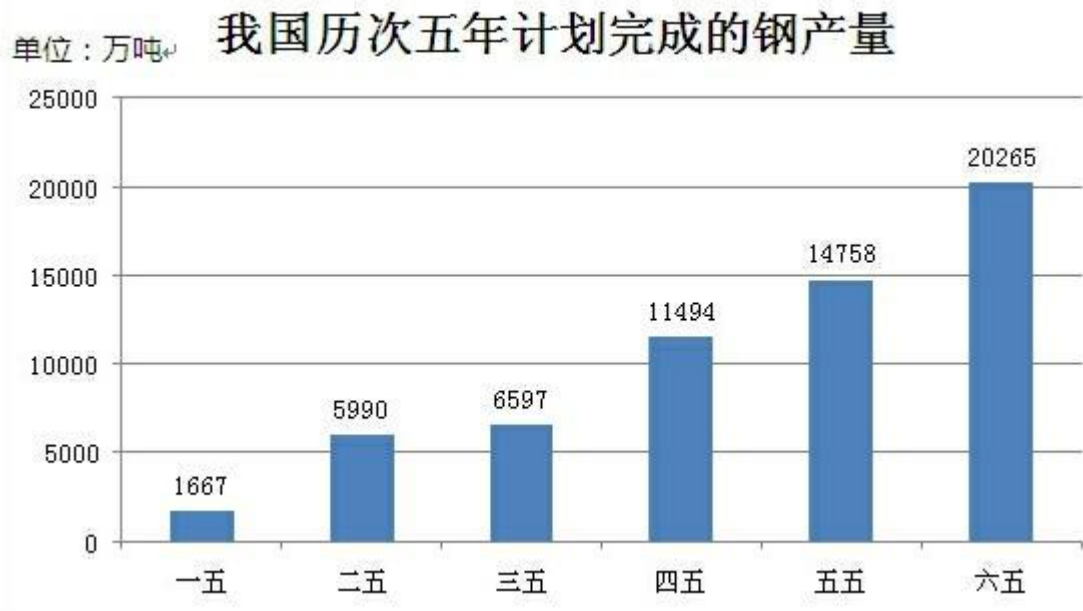
90、2008年，该省秋粮产量占当年粮食总产量的比重为（ ）。

A、53.4%

B、53.1%

C、52.5%

D、52.2%



91、下列关于不同时期钢产量的比较中，错误的是（ ）。

A、“六五”时期钢产量最大。

B、“一五”时期钢产量最小。

C、处于钢产量正中位置的是“三五”时期。

D、“四五”时期钢产量小于“二五”与“三五”时期钢产量的总和。

92、“六五”时期钢产量是“一五”时期钢产量的（ ）倍。

A、12.16

B、10.89

C、13.21

D、11.46

93、前三个五年计划的钢产量比后三个五年计划的钢产量少（ ）万吨。

A、22212

B、25631

C、27854

广东公务员考试网整理，应用商店搜索“公考通”，下载安装手机 APP 做题更方便

D、32263

94、“六五”时期比“五五”时期，“四五”时期比“三五”时期的钢产量各增长了（ ）倍。

A、0.55、0.63

B、0.37、0.74

C、1.25、0.83

D、0.37、1.74

95、下列说法不正确的是（ ）。

A、“三五”时期钢产量于“二五”时期相比，增幅不超过20%。

B、钢产量首次突破5000万吨是在“二五”时期。

C、钢产量比上一时期增长幅度最大的是“二五”时期。

D、六个五年计划共完成钢产量70000万吨。

2004年珠三角规模以上工业企业科技项目情况

地区	科技项目数(项)	科技项目数/广东省总数(%)	新产品开发项目数(项)	新产品开发项目数/广东省总数(%)	R&D项目数(项)	R&D项目数/广东省总数(%)
广东省	7504	100	5858	100	3815	100
珠江三角洲	6224	82.9	5040	86	3376	88.5
广州	1765	23.5	1351	23.1	1292	33.9
深圳	1466	19.5	1273	21.7	758	19.9
珠海	272	3.6	216	3.7	95	2.5
佛山	886	11.8	747	12.8	522	13.7
江门	248	3.3	176	3	96	2.5
肇庆	141	1.9	117	2	45	1.2
惠州	281	3.7	256	4.4	47	1.2
东莞	656	8.7	496	8.5	249	6.5
中山	509	6.8	408	7	272	7.1

96、广州，深圳，佛山三市的科技项目数占广东总数的（ ）。

A、66.1%

B、54.8%

C、50.2%

D、48.8%

97、广州，深圳，佛山三市的新产品开发项目数在珠三角地区的新产品比例为（ ）。

A、66.9%

B、57.6%

广东公务员考试网整理，应用商店搜索“公考通”，下载安装手机 APP 做题更方便

C、50.2%

D、48.8%

98、新开发项目数在广东省所占比例排在珠三角地区第六位的城市是（ ）。

A、珠海

B、肇庆

C、惠州

D、江门

99、各类科技项目的数目在广东省所占比例都是珠三角地区中最低的城市是（ ）。

A、江门

B、东莞

C、肇庆

D、惠州

100、下列说法不正确的是（ ）。

A、珠三角地区是广东省科技发展的主要力量。

B、广东省各地区的科技发展很不平衡。

C、各类科技中，广州，深圳的项目数之和均占珠三角地区总数的一半以上。

D、广州，深圳，珠海是广东省的科技核心。

参考答案与解析

1、正确答案是C，

统计 全站数据：本题共被作答15766次，正确率为20.70%，易错项为A

解析 社会主义初级阶段理论提出的主要依据有：一是历史依据，即我国社会主义社会脱胎于近代半封建半殖民地社会；二是现实依据，即我国的基本国情。

故正确答案为C。

考点 邓小平理论

2、正确答案是D，

统计 全站数据：本题共被作答15217次，正确率为13.94%，易错项为B

解析 党的十六大报告指出：党的先进性是具体的、历史的，必须放到推动当代中国先进生产力和先进文化的发展中去考察，放到维护和实现最广大人民根本利益的奋斗中去考察，归根到底要看党在推动历史前进中的作用。

故正确答案为D。

考点 “三个代表”思想

3、正确答案是C，

统计 全站数据：本题共被作答8236次，正确率为59.30%，易错项为A

解析 A项根据《民法通则》第三十五条规定：“合伙的债务，由合伙人按照出资比例或者协议的约定，以各自的财产承担清偿责任。合伙人对合伙的债务承担连带责任，法律另有规定的除外。偿还合伙债务超过自己应当承担数额的合伙人，有权向其他合伙人追偿。”A错误。

B项根据《民法通则》第二十九条规定：个体工商户、农村承包经营户的债务，个人经营的以个人财产承担；家庭经营的以家庭财产承担。B错误。

C项国有独资公司是指国家单独出资、由国务院或者地方人民政府授权本级人民政府国有资产监督管理机构履行出资人职责的有限责任公司。国有独资公司符合有限责任公司的一般特征：股东以其出资额为限对公司承担责任，公司以其全部法人财产对公司的债务承担责任。故正确答案为C。

考点 民法

4、正确答案是A，

统计 全站数据：本题共被作答15384次，正确率为73.00%，易错项为B

解析 党的十七大报告指出：提高自主创新能力，建设创新型国家。这是国家发展战略的核心，是提高综合国力的关键。要坚持走中国特色自主创新道路，把增强自主创新能力贯彻到现代化建设各个方面。认真落实国家中长期科学和技术发展规划纲要，加大对自主创新投入，着力突破制约经济社会发展的关键技术。

故正确答案为A。

考点 科学发展观

5、正确答案是B，

统计 全站数据：本题共被作答9095次，正确率为56.18%，易错项为D

解析 《公务员法》第四十二条规定“公务员因工作需要要在机关外兼职，应当经有关机关批准，并不得领取兼职报酬。”

故正确答案为B。

考点 公务员法

6、正确答案是D，

统计 全站数据：本题共被作答8849次，正确率为39.93%，易错项为A

广东公务员考试网整理，应用商店搜索“公考通”，下载安装手机 APP 做题更方便

解析 《决定》表明经济体制改革是全面深化改革的重点，核心问题是处理好政府和市场的关系，使市场在资源配置中起决定性作用和更好发挥政府作用。

故正确答案为D。

考点 政府职能

7、正确答案是D，

统计 全站数据：本题共被作答8488次，正确率为28.24%，易错项为B

解析 股东会公司的权力机构，行使下列职权：

- (一) 决定公司的经营方针和投资计划；
- (二) 选举和更换非由职工代表担任的董事、监事，决定有关董事、监事的报酬事项；
- (三) 审议批准董事会的报告；
- (四) 审议批准监事会或者监事的报告；
- (五) 审议批准公司的年度财务预算方案、决算方案；
- (六) 审议批准公司的利润分配方案和弥补亏损方案；
- (七) 对公司增加或者减少注册资本作出决议；
- (八) 对发行公司债券作出决议；
- (九) 对公司合并、分立、解散、清算或者变更公司形式作出决议；
- (十) 修改公司章程；
- (十一) 公司章程规定的其他职权。

故正确答案为D。

考点 企业管理

8、正确答案是B，

统计 全站数据：本题共被作答9937次，正确率为39.62%，易错项为A

解析 紧缩性财政政策是宏观财政政策的类型之一，是指通过增加财政收入或减少财政支出以抑制社会总需求增长的政策。由于增收减支的结果集中表现为财政结余，因此，紧缩性财政政策也称盈余性财政政策。紧缩性财政政策的功能是抑制社会总需求的增长，从而抑制通货膨胀。

故正确答案为B。

考点 宏观经济与调控政策

9、正确答案是A，

统计 全站数据：本题共被作答8808次，正确率为31.74%，易错项为B

广东公务员考试网整理，应用商店搜索“公考通”，下载安装手机 APP 做题更方便

解析 所谓职能监督，是指政府各职能部门就其主管的工作在其职能范围内对其它部门实行的工作监督，它包括平行关系和上下级关系的政府职能部门的监督。职能监督是以业务内容为核心的专项监督。如国家财政部就其主管的国家财政收支工作，对各部委、各地区的预算、计划、收支等工作实施的监督等。又如国家人事部就其主管的人事业务，对各部委、各地区行政编制、人事录用、人事法规执行情况等进行的监督。

司法是职能，所以广东省司法厅对深圳市司法局的监督属于职能监督。

故正确答案为A。

考点 政府职能

10、正确答案是C，

统计 全站数据：本题共被作答8771次，正确率为48.92%，易错项为B

解析 行政领导体制纷繁复杂，按照不同的标准可以划分为不同的类型：

1. 集权制与分权制

根据领导系统中各层级领导机关与领导者职责权限的集中与分散程度的不同，将行政领导体制划分为集权制与分权制。

2. 一长制与委员会制

根据行政领导机关中决策人数多少的不同，将行政领导体制划分为一长制与委员会制。

3. 完整制与分离制

根据上级行政领导机关对下级行政领导机关的指挥、控制方式与程度的不同，将行政领导体制划分为完整制与分离制。

4. 层级制与职能制

根据行政领导体系内部各机构的职权性质与范围的不同，将行政领导体制划分为层级制与职能制。

故正确答案为C。

考点 行政管理

11、正确答案是B，

统计 全站数据：本题共被作答10561次，正确率为52.90%，易错项为A

解析 B项可以有两种理解：一是打击的对象是违规违纪的公务人员，这一部分人只占整个公务队伍的少数；二是打击的对象是违规违纪的公务人员中的少数人，因而有歧义。

故正确答案为B。

考点 公文写作

12、正确答案是D，

统计 全站数据：本题共被作答5735次，正确率为76.22%，易错项为A

解析 2013年12月15日4时35分，嫦娥三号着陆器与巡视器（“玉兔号”月球车）成功分离，登陆月球后玉兔号月球车将开展3个月巡视勘察。

故正确答案为D。

考点 政治常识

13、正确答案是B，

统计 全站数据：本题共被作答10248次，正确率为14.62%，易错项为A

解析 循环经济主要有三大原则，即“减量化、再利用、资源化”原则，每一原则对循环经济的成功实施都是必不可少的。

故正确答案为B。

考点 市场

14、正确答案是D，

统计 全站数据：本题共被作答9093次，正确率为60.90%，易错项为A

解析 空气中含量最多的气体是氮气，约占空气体积的78%。氧占21%，稀有气体占0.94%，二氧化碳占0.03%，水和杂质占0.03%。

故正确答案为D。

考点 生活常识

15、正确答案是C，

统计 全站数据：本题共被作答9798次，正确率为25.26%，易错项为D

解析 在香港回归祖国15周年之际，中央政府制定一系列政策措施，加强内地与香港合作，进一步支持香港经济社会发展。措施包括赋予深圳前海深港现代服务业合作区优惠的税收政策，实行比经济特区更加特殊的先行先试政策。

故正确答案为C。

考点 国情社情

16、正确答案是A，

统计 全站数据：本题共被作答15093次，正确率为73.94%，易错项为D

广东公务员考试网整理，应用商店搜索“公考通”，下载安装手机 APP 做题更方便

解析 马克思主义哲学产生的阶级基础：无产阶级的产生和发展（三大工人武装起义：法国里昂工人起义、英国宪章运动、德国西里西亚纺织工人起义，标志无产阶级已经作为一支独立的政治力量登上历史舞台）

故正确答案为A。

考点 马克思主义

17、正确答案是D，

统计 全站数据：本题共被作答10535次，正确率为60.20%，易错项为A

解析 国体即国家性质，也就是哪个阶级占统治地位，资本主义国家的国体是资产阶级专政，总统制、议会制都属于资本主义国家的政体，而非国体。

故正确答案为D。

考点 国情社情

18、正确答案是D，

统计 全站数据：本题共被作答11120次，正确率为49.47%，易错项为A

解析 市场交易中不准缺斤短两、以次充好、降低服务标准，属于市场管理内容中对市场经营活动和竞争方式的管理。

故正确答案为D。

考点 市场

19、正确答案是D，

统计 全站数据：本题共被作答9488次，正确率为18.87%，易错项为B

解析 2014年3月3日下午，参与十二届全国人大二次会议的广东代表团在驻地举行全体会议，正式成立十二届全国人大二次会议广东代表团。会议推选代表团团长、副团长，经表决通过，黄龙云为广东代表团团长，朱小丹、徐少华、肖志恒、雷于蓝为副团长。

故正确答案为D。

考点 国情社情

20、正确答案是C，

统计 全站数据：本题共被作答5501次，正确率为29.65%，易错项为B

解析 泰国反政府集会领导人素贴2月28日晚宣布，将结束“封锁曼谷”行动，把曼谷所有集会人群都合并到隆披尼公园，但他同时表示包围政府部门和西那瓦家族企业的行动还将继续。

广东公务员考试网整理，应用商店搜索“公考通”，下载安装手机 APP 做题更方便
故正确答案为C。

考点 政治常识

21、正确答案是D,

统计 全站数据：本题共被作答1965次，正确率为18.47%，易错项为C

解析 本题考点为数数中的数直线数。前一串的三个图形，分别有3、4、5条直线，直线数是连续自然数列。按照这种规律，第二串图形有4,2条直线，问号处应填直线数为3的图形，故答案为D选项。

考点 平面-数数

22、正确答案是B,

统计 全站数据：本题共被作答1819次，正确率为90.38%，易错项为D

解析 前一串白色和左斜的阴影数均依次是2,1,0，十字交叉和右斜的阴影数均依次是0,1,2。后一串白色和横线阴影数均依次是2,1,0。方格阴影和竖线阴影数均依次是0,1,2。按照这种规律，问号处为B选项。

考点 平面-位置

23、正确答案是A,

统计 全站数据：本题共被作答2227次，正确率为86.26%，易错项为B

解析 本题考点为元素叠加中的叠加运算。第一串图形中，前两个图形去同存异，得到由“☆”和“□”组成的第三个图形。按照这种规律，第二串图形去同存异，得到由“◎”和“◇”组成的第三个图形。因此答案为A选项。

考点 平面-元素

24、正确答案是B,

统计 全站数据：本题共被作答2854次，正确率为63.21%，易错项为D

解析 本题考点为属性中的曲直性。元素组成凌乱是判断该考点的依据。第一串中，“A”由直线构成；“B”为曲线+直线构成；“C”是曲线。第二串中，“H”由直线构成；“D”为曲线+直线。按照第一串的构成规律，问号处应是曲线构成的，故答案为B选项。

考点 平面-属性

25、正确答案是D,

广东公务员考试网整理，应用商店搜索“公考通”，下载安装手机 APP 做题更方便

统计 全站数据：本题共被作答2033次，正确率为41.07%，易错项为A

解析 本题考点为数数中的数直线数。第一串图形中3个图形直线数依次为3，2，3。第一个和第二个直线数是相等的。按照这种规律，第二串的3个图形直线数应依次为2，4，2。故问号处应为D选项。

考点 平面-数数

26、正确答案是C，

统计 全站数据：本题共被作答638次，正确率为36.21%，易错项为B

解析 本题考查年代前后顺序。顾炎武（1613年—1682年）明朝南直隶苏州府昆山人，著名思想家、史学家、语言学家，与黄宗羲、王夫之并称为明末清初三大家。他提出了“天下兴亡，匹夫有责”的响亮口号。诸葛亮（181年—234年），字孔明，号卧龙，徐州琅琊阳都人，三国时期蜀汉丞相，杰出的政治家、军事家、散文家、书法家、发明家。鞠躬尽瘁，死而后已出自三国蜀国诸葛亮《后出师表》。文天祥（1236年—1283年），字宋瑞，字履善。自号文山、浮休道人。江西吉州庐陵人，宋末政治家、文学家，爱国诗人，抗元名臣，与陆秀夫、张世杰并称为“宋末三杰”。人生自古谁无死，留取丹心照汉青出自文天祥的《过零丁洋》。林则徐（1785年—1850年），福建省侯官人，字元抚，晚号俟村老人、俟村退叟、七十二峰退叟、瓶泉居士、栎社散人等，是中国清朝后期政治家、思想家和诗人。海纳百川，有容乃大；壁立千仞，无欲则刚。此联为清末政治家林则徐任两广总督时在总督府衙题书的堂联。韩愈（768年—824年），字退之，唐代文学家、思想家、政治家，汉族，河南河阳人，晚年任吏部侍郎，谥号“文”，又称韩文公，唐宋八大家之一，有“文起八代之衰”的美誉。业精于勤，荒于嬉；行成于思，毁于随。出自韩愈的《进学解》。所以按照时间先后的排序应该是2-5-3-1-4。故正确答案为C项。

考点 事件排序

27、正确答案是C，

统计 全站数据：本题共被作答636次，正确率为64.94%，易错项为D

解析 本题考查时间前后顺序。1642年，年仅19岁的法国伟大科学家帕斯卡引用算盘的原理，发明了第一部机械式计算器，1946年2月14号（ENIAC）艾尼克问世，标志着世界第一台电子管数字计算机问世。英国年轻的企业家、发明家克里夫·辛克莱，1972年发明电子计算器。第2代计算机：晶体管数字计算机（1958—1964年）第3代计算机：集成电路数字计算机（1964—1970年）第4代计算机：大规模集成电路计算机（1970年至今），故正确答案为C项。

考点 事件排序

广东公务员考试网整理，应用商店搜索“公考通”，下载安装手机 APP 做题更方便

28、正确答案是D，

统计 全站数据：本题共被作答636次，正确率为97.01%

解析 本题考查时间前后顺序。首先浏览选项，按常理应该先吃完饭在超市闲逛才能有推销员上前来推销商品然后拒绝并走开，期间不注意打坏商品，导致不得已买下商品。故正确答案为D。

考点 事件排序

29、正确答案是B，

统计 全站数据：本题共被作答625次，正确率为98.72%

解析 本题考查时间前后顺序。首先浏览选项，应该是伯乐受楚王的委托，购买能日行千里的骏马，然后跑了好几个国家，还是没发现中意的良马，这时看到一匹马拉着盐车，很吃力地在陡坡上行进，马见伯乐走近，突然昂起头来瞪大眼睛，大声嘶鸣，伯乐立即判断，这是一匹难得的骏马。所以正确顺序为2-3-4-5-1。故正确答案为B项。

考点 事件排序

30、正确答案是B，

统计 全站数据：本题共被作答633次，正确率为97.79%

解析 本题考查时间前后顺序。首先浏览选项，时间顺序应该是身体不舒服—医院检查—接受治疗—病情好转—康复。此题可根据（5）康复，可知是最后的结果从而秒杀此题。

故正确答案为B。

考点 事件排序

31、正确答案是C，

统计 全站数据：本题共被作答1558次，正确率为63.54%，易错项为A

解析 本题考查逻辑推理里面的归纳结论。从“而咽炎在各个年龄段的发病率没有明显的不同，该市在未来10年间，老年人人口比例将呈明显上升态势”这句话可以推出C选项。

AB两项出现最高，推不出来。D项文中未提及非老年患者。

故正确答案为C项

考点 关联词推导

32、正确答案是C，

统计 全站数据：本题共被作答1688次，正确率为88.27%，易错项为D

解析 本题考查分析推理。将选项带入反向推理即可得出答案，如果赵是目击者，那么他说没有，

广东公务员考试网整理，应用商店搜索“公考通”，下载安装手机 APP 做题更方便

即说明错误，所以排除A、B。如果赵是诈骗犯，他说没有，说明有目击者，而D项表达都为诈骗犯，故排除。由此可知C项正确。

故正确答案为C项

考点 真假破案

33、正确答案是D，

统计 全站数据：本题共被作答1647次，正确率为65.39%，易错项为C

解析 第一步：找到论点论据

论点：购买一手新房而非二手房的购房者的比例已经下跌了，部分购房者认为这缘于一手新房价格的上涨

论据：一手新房购买者所付的购房款也远远高于几年前的房价。

第二步：判断削弱方式

论据不足以支持论点，因此补充新论据削弱

第三步：逐一判断选项

选项A, 本题讨论的是一手和二手房屋价格和其购买比例之间的关系，与房屋价值无关，属于偷换概念；

选项B, 论点讨论的是购买一手新房而非二手房的购房者的比例已经下跌的原因，而跟二手房购买比例是否增加没有关系；

选项C, 本选项讨论的是二手房销售增加的原因，而题干并没有提及；

选项D, “二手房购买者所付的购房款也远远高于几年前的房价”，说明无论一手房和二手房的购买者所购的房款都高于几年前，说明仅通过手新房购买者所付的购房款也远远高于几年前的房价就得到结论证据不足够。故正确答案为D项

考点 削弱题型

34、正确答案是D，

统计 全站数据：本题共被作答742次，正确率为79.65%，易错项为A

解析 第一步：分析论点论据

论点：为了在下一季度进一步吸引顾客、提高利润，决定与团购公司合作，推出优惠团购套餐。

论据：没有论据

第二步：判断加强方式

补充论据

第三步：逐一判断选项

广东公务员考试网整理，应用商店搜索“公考通”，下载安装手机 APP 做题更方便

故正确答案为D项

考点 加强题型

35、正确答案是C，

统计 全站数据：本题共被作答1637次，正确率为85.95%，易错项为D

解析 本题考查对比试验。论点是有人认为牛奶的浓度与奶牛所吃的有机牧草有关。那选项中一定要出现牛奶浓度和牧草两个关键词。符合条件的只有C项。A、B选项都只提到一个对象，D选项提到的是有机牧草的比例，而题干中没有提到比例的问题，所以排除。

故正确答案为C项。

考点 加强题型

标签 加强论证

36、正确答案是C，

统计 全站数据：本题共被作答592次，正确率为48.48%，易错项为B

解析 本题考查原因解释。题干中存在的矛盾是“君主的长子拥有绝对的王位继承优先权。”与“现任女王在内，英国历史上有很多女王都继承了王位。”选项中A、B、D都可以成为矛盾的原因，而C项无法成为这种矛盾的原因。C项支持了后者，否定了前者。所以选C。

故正确答案为C项

考点 机械推理

标签 加强论证

37、正确答案是D，

统计 全站数据：本题共被作答1501次，正确率为76.42%，易错项为A

解析 第一步：分析论点论据

论点：周强不该劝李明戒酒；

论据：李明没有经常劝周强戒酒

第二步：判断加强方式

论点论据没关系，需在论点论据中搭桥

第三步：逐一判断选项

A选项，只是说了劝戒酒，而题干说的是不劝戒酒，与题干不符；

B选项，喝酒对身体的伤害与题干无关；

C选项，喝酒人对不喝酒人的影响也与题干无关；

广东公务员考试网整理，应用商店搜索“公考通”，下载安装手机 APP 做题更方便

D选项，在不该劝酒和没有经常劝酒之间搭桥，因此，正确答案D。

考点 加强题型

标签 加强论证

38、正确答案是D，

统计 全站数据：本题共被作答1505次，正确率为63.46%，易错项为C

解析 第一步：分析题干

本题考查推理结构。题干中的结构是李先生决定以后都不再去游山玩水了，推出曾经游览过五岳和九寨。即 $A \rightarrow B$ ，肯定 $B \rightarrow$ 肯定 A 。

第二步：逐一分析选项

A、B、C选项都属于 $A \rightarrow B$ ，否定 $B \rightarrow$ 否定 A ，不符合题意；

只有D选项符合 $A \rightarrow B$ ，肯定 $B \rightarrow$ 肯定 A 的结构：患肿瘤 \rightarrow 戒烟 肯定戒烟 \rightarrow 肯定患肿瘤。故正确答案为D项

考点 关联词推导

标签 充分必要条件

39、正确答案是A，

统计 全站数据：本题共被作答1607次，正确率为81.46%，易错项为D

解析 本题考查论点成立的必要条件。题干大意为，将第一个3公里或不到3公里的路程内收取6元起步费，往后每公里收取2元车费调整为第一个5公里或不到5公里的路程内收取10元起步费。因为题干是为了提高司机的收入，而又只是提高了起步价的价格，所以基于的前提一定是A项F市地域非常小，很多人坐计程车不会超过3公里，从而增加了司机的收入。其他选项不是必要条件。故正确答案为A项。

考点 加强题型

标签 加强论证

40、正确答案是A，

统计 全站数据：本题共被作答1458次，正确率为60.43%，易错项为D

解析 本题考查归纳推理。题中关键之处在于“一旦股东之间形成8人或8人以上的小团体，那其余股东的表决权实际上已经处于无效的状态”股东观点只存在于“同意”与“不同意”所以无论前面的5、5、3的小团体中必然有任意2组是一样的观点，也就是说或者是5+5和3、或者是5+3和5。无论哪种方式都大于等于8，根据“一旦股东之间形成8人或8人以上的小团体，那其余股东的表

广东公务员考试网整理，应用商店搜索“公考通”，下载安装手机 APP 做题更方便

表决权实际上已经处于无效的状态”也就是说剩下的2人一定是无效的，也就是说表决权实际效果为0。故正确答案为A项。

考点 日常结论

41、正确答案是B，你的答案是A。回答错误

统计 全站数据：本题共被作答1076次，正确率为60.78%，易错项为C

解析 数列起伏较大，且存在敏感数字62、214，优先考虑幂次数列。 $6=2^3-2$ ； $62=4^3-2$ ； $214=6^3-2$ ，则可推出所求应为： $8^3-2=510$ ，故正确答案为B。

考点 幂次数列

42、正确答案是A，

统计 全站数据：本题共被作答1618次，正确率为88.75%，易错项为B

解析 题干数列并无递推与幂次规律，考虑做差。做差后得到新数列为：25、75、125、（），为公差为50的等差数列，则下一项应为 $125+50=175$ ，故题干所求应为： $175+220=395$ ，故正确答案为A。

考点 基础数列

43、正确答案是D，

统计 全站数据：本题共被作答1046次，正确率为72.56%，易错项为B

解析 数列起伏不大，首先考虑做差，做差后并无规律，考虑三项之间的运算递推规律，可以得出： $7*2+9=23$ ； $9*2+23=41$ ； $23*2+41=87$ ；故所求应为： $41*2+87=169$ ，正确答案为D。

考点 递推数列

44、正确答案是D，

统计 全站数据：本题共被作答1070次，正确率为83.93%，易错项为B

解析 数列起伏较大，但并无幂次规律，考虑商数列。做商后得到新数列为：1、3、5、（），为奇数列，则下一项为7，故所求应为 $7*75=525$ ，正确答案为D。

考点 递推数列

45、正确答案是B，

统计 全站数据：本题共被作答1087次，正确率为93.65%

解析 数列起伏不大，优先考虑做差。做差后得到新数列为：3、5、7、9、（），为公差为2的

广东公务员考试网整理，应用商店搜索“公考通”，下载安装手机 APP 做题更方便
等差数列，则下一项应11，故所求应为11+21=32，正确答案为B。

考点 递推数列

46、正确答案是D，

统计 全站数据：本题共被作答1835次，正确率为76.73%，易错项为B

解析 根据等差数列求和公式： $S_n = (\frac{a_1 + a_n}{2})n = (1995 + 2000) * 6 / 2 = 3995 * 3 = 12000 - 15 = 11985$ ，
故正确答案为D。

考点 数列问题

公式应用 当题目类型存在固定公式时，可直接将题干所给条件带入公式，得出结果。

47、正确答案是B，

统计 全站数据：本题共被作答1245次，正确率为72.45%，易错项为A

解析 由题意可知，第一个月甲乙共生产88辆，第二个月甲乙共生产96辆，甲每月产量保持不变，乙每月产量翻番，故总量第二月比第一月多96-88=8辆为乙厂翻番得来，则乙第一月生产了8辆，甲每月生产80辆。乙第二个月生产16辆，第三月生产32辆，第四月生产64辆，第五月生产128辆，第一次超过甲的月产量，故正确答案为B。

考点 和差倍比问题

差异分析

差异分析，指着眼于两种情况之间的差异所在，分析差异产生的原因，从而快速地求解问题。

注意以下几点：

- 1) 存在两种方案对比时，直接考虑两种方案的差异之处；
- 2) 差异分析强调分析差异产生的原因，此为应用之关键；
- 3) 两种因素并存时，常先合并构造一种情形，然后分析差异。

48、正确答案是D，

统计 全站数据：本题共被作答1615次，正确率为68.67%，易错项为B

解析 设西湖总路程为420，根据题意则可得出：

$V_{甲} + V_{乙} = 420 \div 35 = 12$ ； $V_{甲} = 420 \div 60 = 7$ ；则 $V_{乙} = 12 - 7 = 5$ 。故乙单独绕西湖一圈需要
 $420 \div 5 = 84$ 分钟，正确答案为D。

考点 行程问题

赋值思想

广东公务员考试网整理，应用商店搜索“公考通”，下载安装手机 APP 做题更方便

赋值思想，指对很多数学运算问题，不通过抽象分析，而是直接将合适的数字代入题目进行计算并得到答案的方法。例如：题干中各要素存在和差倍比关系的时候，可直接赋予符合这种关系的特殊值求解；题干中各要素存在数量上增减的时候，可直接给各要素赋予一个适当的初始值；题干中存在同一要素不同分配形式的时候，也可直接赋予该要素一个适当的初始值。总之，题干中只要存在未知要素相互关系的变化，首先都要想到能否通过赋值来解决。

49、正确答案是B，

统计 全站数据：本题共被作答1407次，正确率为35.96%，易错项为C

解析 依据题意，设四种玩具的价格分别为：a、b、c、d，且 $a < b < c < d$ 。则 $(a+b) + (c+d) = (a+c) + (b+d) = (a+d) + (b+c)$ 。已知其中的5个数据分别为：144、130、125、113、99，只有 $99+144=113+130=125+x$ ，解得 $x=118$ 。根据数值大小可以得出： $a+b < a+c < b+c < b+d < c+d$ ，故 $c+d=144$ ， $a+c=113$ 。则价格最高的比价格最低的贵： $d-a = (c+d) - (a+c) = 144-113=31$ ，故正确答案为B。

考点 计算问题

整体考虑

整体考虑，指在数学运算中，不去考虑具体多个量或多种情况的混合影响，而是将繁琐的细节抛开，只考虑某一个整体或某一种情况，从而快速计算整体情形下的结果，然后与具体情形进行比较分析得出结果。

50、正确答案是D，

统计 全站数据：本题共被作答1474次，正确率为30.94%，易错项为C

解析 根据追及问题公式可得， $10 * V_{王} = (V_{李} - V_{王}) * 40 \dots \textcircled{1}$ ； $30 * V_{王} = (V_{李} - V_{王}) * 90 \dots \textcircled{2}$ 。

根据①②两式，可求得 $V_{王} : V_{李} : V_{王} = 12 : 15 : 16$ 则小王追上小李所用的时间应为：

$$\frac{(20 * V_{王})}{(V_{李} - V_{王})} = \frac{(20 * 15)}{(16 - 15)} = 300 \text{分钟} = 5 \text{小时}，故正确答案为D。$$

考点 行程问题

比例转化

正向比例关系时，进行量值同向转化；反之，进行量值反向转化。适用于题干中给出两个量比例关系的题目，或存在两个量乘积为定值的问题。一个典型的应用场景为 $A = B * C$ ，当其中一个值不变时，其余两个呈正比或反比关系。

广东公务员考试网整理，应用商店搜索“公考通”，下载安装手机 APP 做题更方便

51、正确答案是D，

统计 全站数据：本题共被作答2480次，正确率为28.47%，易错项为B

解析 为清晰计算，可将全部情况数分为：仅有3个5相连、有4个5相连、5个5相连三种情况。

假设数字中仅有3个5相连，简单设为“A”，则符合条件的数字包括：A__、__A、_A_三种情况。当为第一种情况“A__”时，第一空只能为6、7、8，第二空可为5、6、7、8，则共计 $3 \times 4 = 12$ 种情况；当为第二种情况“__A”时，第一空可为5、6、7、8，第二空只能为6、7、8，同样共计 $4 \times 3 = 12$ 种情况；当为第三种情况“_A_”时，第一空可为6、7、8，第二空也可为6、7、8，共计 $3 \times 3 = 9$ 种情况。因此当仅有3个5相连时，一共有 $12 + 12 + 9 = 33$ 种情况。

假设数字中有4个5相连，简单设为“B”，则符合条件的数字包括B_与_B。当为第一种情况“B_”时，共计有6、7、8三种情况；当为第二种情况“_B”时，同样共计有6、7、8三种情况。因此当有4个5相连时，一共有 $3 + 3 = 6$ 种情况。

假设数字中有5个5相连，则只有1种可能，即“55555”。

故组成至少有连续三位是5的数字共有 $33 + 6 + 1 = 40$ 种情况，正确答案为D。

考点 分段计算问题

分类分步

分类分步主要应用于排列组合问题。

分类就是完成一件事情有多种不同的方法，每种方法算作一类；

分步就是完成一件事情需要多个步骤进行才能顺利完成。

若分类完成，各类之间用加法计算总数；若分步完成，各步之间用乘法计算总数。

52、正确答案是B，

统计 全站数据：本题共被作答1531次，正确率为78.31%，易错项为C

解析 设长方体鱼缸的长宽高分别为a、b、c，根据数值可列式为 $ab = 7.5$ ； $ac = 6$ ； $bc = 5$ 。则 $ab \cdot bc \cdot ac = (abc)^2 = 225$ ，则 $abc = 15$ ，即为长方体鱼缸的体积，故正确答案为B。

考点 几何问题

数字特性

数字特性法，指不通过具体计算得出最后结果，而只需考虑最终结果所应满足的数字特性，从而排除错误选项得到正确选项的方法。常用的数字特性包括大小特性、奇偶特性、尾数特性、余数特性、整除特性、因子特性、幂次特性等多种特性方法，其中尤以整除特性最为常用。

53、正确答案是B，

统计 全站数据：本题共被作答1256次，正确率为77.79%，易错项为A

广东公务员考试网整理，应用商店搜索“公考通”，下载安装手机 APP 做题更方便

解析 根据题干条件，可快速列方程求解： $甲-12=乙+12$ ； $(甲+12)=(乙-12)*2$ ，解得甲=84，乙=60，则二人共有 $84+60=144$ 个。（也可直接代入求解），故正确答案为B。

考点 和差倍比问题

直接代入

直接代入法，指将题目的选项直接代入题干、判断选项正误的方法，可以广泛应用于各种题型。

54、正确答案是D，

统计 全站数据：本题共被作答1950次，正确率为70.62%，易错项为C

解析 根据题意，“排名后5名的同学平均每人筹得的善款比8人的平均数少15元”，每人比平均数少15元，则5人共少 $15*5=75$ 元。根据盈亏思想，少的75元应由前3名弥补，则每人应比平均数多 $75\div 3=25$ 元。已知前3名的平均数为150元，则这8位同学平均每人筹得的善款为 $150-25=125$ 元，故正确答案为D。

考点 盈亏问题

差异分析

差异分析，指着眼于两种情况之间的差异所在，分析差异产生的原因，从而快速地求解问题。

注意以下几点：

- 1) 存在两种方案对比时，直接考虑两种方案的差异之处；
- 2) 差异分析强调分析差异产生的原因，此为应用之关键；
- 3) 两种因素并存时，常先合并构造一种情形，然后分析差异。

55、正确答案是D，

统计 全站数据：本题共被作答1538次，正确率为44.02%，易错项为A

解析 根据题干可知，返回时所用的时间应为： $13.5\div (1+1.25)=6$ 小时，则去时所用的时间就应为 $13.5-6=7.5$ 小时。当路程一定时，速度与时间成反比，则去时的速度就等于 $6\div (7.5-6)*6=24$ km/h，故AB两地之间的距离为 $24*7.5=180$ km。故正确答案为D。

考点 行程问题

比例转化

正向比例关系时，进行量值同向转化；反之，进行量值反向转化。适用于题干中给出两个量比例关系的题目，或存在两个量乘积为定值的问题。一个典型的应用场景为 $A=B\times C$ ，当其中一个值不变时，其余两个呈正比或反比关系。

56、正确答案是D，

广东公务员考试网整理，应用商店搜索“公考通”，下载安装手机 APP 做题更方便

统计 全站数据：本题共被作答2966次，正确率为91.98%，易错项为A

解析 本题主要考查考生实词辨析的能力。第一空根据语境，是要求把有毒和无毒的蘑菇区分清楚，应用“分辨”，第二空根据语境，雾霾天气，交通信号灯难以区分清楚。也应填“分辨”，第三空根据语境，与解释说话有关，应填“分辨”。故正确答案为D。

【词语分析】分辨：指区分、辨别。通过观察、调查等手段分析一件事物的真伪、好坏等；分辩：指通过语言论证自己的论点（未必是正确的论点）。二者的区别在于辨别和辩解。

考点 实词填空

57、正确答案是B，

统计 全站数据：本题共被作答3084次，正确率为53.44%，易错项为D

解析 本题主要考查考生实词辨析的能力。第一空根据语境，应表达出目的和意图的意思，选“意旨”。第二空根据语境，含限制在狭隘范围内的意思，应填“局限”。故正确答案为B。

【词语分析】意旨：指目的、意向和意图。多指尊者的意向。如：秉承意旨。意味：有两层意思，①意义和情趣；如：意味深长；②表明和包含的意思；如：忘记过去意味着背叛。二者的区别在于前者侧重旨意，后者侧重表示。局限：就是限制在狭小的范围内的意思。限定：指一定范围、限度，不许超过或确定...的界线或范围。

考点 实词填空

58、正确答案是C，

统计 全站数据：本题共被作答3150次，正确率为68.54%，易错项为A

解析 本题主要考查考生实词辨析的能力。第一空根据语境，年终检查评比成了通常的做法，而不是生活习惯，故选“惯例”。第二空根据语境，指改变传媒工具的本质，应填“变革”。第三空根据语境，从市场格局和空白领域入手，填“占领”较为合适。故正确答案为C。

【词语分析】惯例：指通常方法、习惯做法、常规。习惯：是指积久养成的生活方式。今泛指一地方的风俗、社会习俗、道德传统等通过实践或经验而适应于做艰苦工作。改革：指各种包括政治、社会、文化、经济、宗教组织作出的改良革新。变革：指改变事物的本质。“占据”和“占领”这两个词都是动词，两者都含有“取得土地”之意，区别在于“取得”的方式。占领：指用武装力量取得阵地和领土。占据：指用强力取得和保持地域或场所等。

考点 实词填空

59、正确答案是D，

统计 全站数据：本题共被作答3036次，正确率为77.80%，易错项为A

广东公务员考试网整理，应用商店搜索“公考通”，下载安装手机 APP 做题更方便

解析 本题主要考查考生实词辨析的能力。第一空根据语境，清幽气息是常见搭配，有道是：清幽静谧，气息依旧。第二空根据语境，填的词和见解是并列关系，故选“感悟”。故正确答案为D。

【词语分析】幽静：多指环境优美，安静。清幽：则是一般用于形容风景，比喻秀丽而幽静也可修饰气息。感悟：指人们对特定事物或经历所产生的感想与体悟。感触：指跟外界事物接触而引起的思想感情。如：他在电脑方面深有感触。

考点 实词填空

60、正确答案是C，

统计 全站数据：本题共被作答3097次，正确率为42.75%，易错项为D

解析 本题主要考查考生实词辨析的能力。根据语境，色彩绚烂、波浪起伏、三三两两，都说明事物的鲜艳美丽，故选“绮丽”。故正确答案为C。

【词语分析】艳丽：多指色彩炫目，夺人眼球。秀丽：可指人容貌秀美也可修饰环境。绮丽：多指事物鲜艳美丽。壮丽：多指山川、建筑、图景、场面等宏壮美丽；也可指文辞宏伟瑰丽。

考点 实词填空

61、正确答案是B，

统计 全站数据：本题共被作答3253次，正确率为79.43%，易错项为C

解析 本题主要考查考生实词辨析的能力。第一空根据语境，伟大的作家，常见搭配为渊博的知识，学问渊博。应填“渊博”。第二空根据语境，应填“安慰”。第三空根据语境，抚慰创伤为常见搭配，应填“抚慰”。故正确答案为B。

【词语分析】广博：其意是指宽广博大、学识、胸怀等。渊博：指精深而广博，形容知识广且深，博学多才。安抚：安息、抚慰发怒或焦虑的人。安慰：指安顿抚慰。用欢娱、希望、保证以及同情心减轻、安抚或鼓励。抚慰：抚恤、安慰。是帮助别人从错误、忧虑中醒悟过来。

考点 实词填空

62、正确答案是A，

统计 全站数据：本题共被作答3229次，正确率为42.55%，易错项为B

解析 本题主要考查考生实词辨析的能力。第一空根据语境，是达到充足的地步，应填“十足”。第二空根据语境，是程度上充足，应填“十足”。第三空根据语境，分量确实足数，填“实足”。故正确答案为A。

【词语分析】实足：指确实足数的。如：实足年龄、实足一百人。十足：指达到充足的程度或完全的地步。如：神气十足、十足的理由。

广东公务员考试网整理，应用商店搜索“公考通”，下载安装手机 APP 做题更方便

考点 实词填空

63、正确答案是A，

统计 全站数据：本题共被作答3203次，正确率为88.60%，易错项为C

解析 本题主要考查考生实词辨析的能力。第一空根据语境，世俗喧嚣为常见搭配，填“喧嚣”。第二空根据上下文意思，通过前文“统一的安宁”和寂寥，应填“阻隔”。故正确答案为A。

【词语分析】喧嚣：指声音杂乱，不清静，有叫嚣、喧嚷之意。喧哗：形容声音大而杂乱的词语。阻隔：有障碍物阻挡，难以往来；阻碍，指的是阻碍打击。

考点 实词填空

64、正确答案是C，

统计 全站数据：本题共被作答3123次，正确率为33.65%，易错项为D

解析 本题主要考查考生实词辨析的能力。第一空根据文段中的提示性词语“地理属性”，应填“自然”。第二空根据语境，填“显著”。故正确答案为C。

【词语分析】自然：既用作名词指具有无穷多样性的一切存在物，也用作形容词指天然的、非人为的或不做作、不拘束。自然是指自然赋予的、生来就有的、自然生成的、自然形成的。显明：表明、清楚地显示出来。显著：指明显与引人注目。

考点 实词填空

65、正确答案是B，

统计 全站数据：本题共被作答3285次，正确率为86.94%，易错项为C

解析 本题主要考查考生实词辨析的能力。第一空根据文段得意思，修饰品牌和符号用亮丽侧重于明亮，知名度高。应填“亮丽”。第二空根据常见搭配，发展双边关系的良好祝愿是常见搭配。应填“祝愿”。故正确答案是B。

【词语分析】美丽：作形容词。对所有事物来说，好看、漂亮。亮丽：指明亮美丽。重点在“亮”字，明亮、光亮。祝愿：形容（人）对事物的一种迫切的意愿心态。祝福：本意指祈神赐福，现泛指祝人顺遂幸福。

考点 实词填空

66、正确答案是A，

统计 全站数据：本题共被作答1129次，正确率为51.28%，易错项为C

解析 选项B，属于句式杂糅。把“小苗每天很早到校打扫教室”和“打扫教室是她热爱班集体的好

广东公务员考试网整理，应用商店搜索“公考通”，下载安装手机 APP 做题更方便

思想”这两句话杂糅在一起，同时后一句话“打扫教室是好思想”也犯了主宾搭配不当。选项C，提炼主谓宾，分别为“影片《生死抉择》是艺术作品”和“影片《生死抉择》是重要措施”，而“影片《生死抉择》是重要措施”，犯了主宾搭配不当。选项D，应删掉介词“对”。故正确答案为A。

考点 病句辨析题

67、正确答案是D，

统计 全站数据：本题共被作答1205次，正确率为48.13%，易错项为A

解析 A项前后主体不一致，前一个分句主语是运动员，后半句变成人类，内容不对应，应把“人类”换成“人体”；B项“那里”这一指代词使用过于重复，致使语句不够通畅；C项最后分句中的“那”应该指代“话说的太多，或是过分兴奋”这种情况，应把“的时候”去掉。

故正确答案为D。

考点 病句辨析题

68、正确答案是C，

统计 全站数据：本题共被作答1198次，正确率为59.68%，易错项为A

解析 选项C，“频率和程度正在增加”中的程度与增加搭配不当。故正确答案为C。

考点 病句辨析题

69、正确答案是C，

统计 全站数据：本题共被作答1214次，正确率为21.66%，易错项为D

解析 选项A，词语搭配不当，“更新”与“心态和工作水平”搭配不当。选项B，成分赘余，“可以堪称”成分赘余，删掉“可以”。选项D，“长足贡献”搭配不当。故正确答案为C。

考点 病句辨析题

70、正确答案是A，

统计 全站数据：本题共被作答1214次，正确率为35.50%，易错项为C

解析 选项B，关联词运用不当，要把“不管”改成“尽管”。选项C，搭配不当，“品牌”与“但却离设计者追求艺术的原始初衷越来越远。”搭配不当。同“原始初衷越来越远”搭配的只能是产品，品牌并不会离设计者追求艺术的原始初衷越来越远。选项D，肯定与否定搭配不当。“未尝”“不是”“不好”是三重否定，三重否定还是否定，所以原文的意思是“女人依靠自己的能力在现代社会中生存发展，实现自我价值不是一种好的生活方式”很明显不对。故正确答案为A。

考点 病句辨析题

71、正确答案是C，

统计 全站数据：本题共被作答1214次，正确率为55.35%，易错项为B

解析 选项A，词语搭配不当，“关注和提高学生的学习兴趣和学习经验”搭配不当。选项B，词语搭配不当，“安排问题”搭配不当。选项D，“创造了‘楚辞’文体，被后世尊为‘诗歌之父’的爱国主义诗人”只能是屈原，而不能是“屈原祠”。故正确答案为C。

考点 病句辨析题

72、正确答案是D，

统计 全站数据：本题共被作答1060次，正确率为50.09%，易错项为B

解析 选项D，“与昆明市民人鸥同乐”成分多余，应删掉“人鸥”。故正确答案为D。

考点 病句辨析题

73、正确答案是C，

统计 全站数据：本题共被作答1071次，正确率为60.88%，易错项为D

解析 选项A，词语正反面搭配不当，“与否”、“高低”和“强弱”都是两面，最后一句话“是做到司法公正的重要保障”只谈了正面，反面没有谈，词语正反面搭配不当。选项B，缺少宾语。在“资格”后加上“的处罚”。选项D，主客体颠倒，改为“通过审判公开，普通市民的法律水平有了很大的提高”。故正确答案为C。

考点 病句辨析题

74、正确答案是D，

统计 全站数据：本题共被作答1102次，正确率为51.18%，易错项为A

解析 选项A，并列句有毛病，“月饼、大闸蟹、电子卡、年货”并列不当。因为年货包含前面的。选项B，缺少宾语，在“最大艺术博物馆”后加上“的企图”。选项C，搭配不当。“平均”后面要接确数，不能接概数，所以“平均年龄大约37岁左右”搭配不当。删掉“大约”和“左右”。故正确答案为D。

考点 病句辨析题

75、正确答案是D，

统计 全站数据：本题共被作答3833次，正确率为48.00%，易错项为C

解析 浏览选项，（1）和（6）对比，发现（6）更适合做首句，所以排除A、B选项。根据内容

广东公务员考试网整理，应用商店搜索“公考通”，下载安装手机 APP 做题更方便

一致的原则，我们发现，（1）讲的话题是“商代后期青铜铸造”接下来也要论述的是“商代后期青铜铸造”，只有（4）讲到“商代后期青铜铸造”的话题，所以（1）后面应接（4）。故正确答案为D。

考点 语句排序

76、正确答案是D，

统计 全站数据：本题共被作答1983次，正确率为84.32%，易错项为A

解析 结合主题一致原则分析各选项，A项符合原文第一段的内容。B项和C项符合原文“谈话试验”使他们这些不满的情绪得到了充分地发泄，从而感到心情舒畅，干劲倍增。D项为绝对化表达。说“关注人们的心理状态是提高工作效率的唯一途径”，原文中只是说他可以提高产量，但是没有说是唯一途径。故正确答案是D。

考点 细节判断题

77、正确答案是D，

统计 全站数据：本题共被作答2010次，正确率为72.19%，易错项为B

解析 A项与原文“对于患牛皮癣病的患者来说，他们实际死于心脏病的概率要比其他人高50%”符合。B项与原文“从年龄角度来看，患者的年龄越小，死于心脏病的风险越大”符合。C项与原文“瑞典科研人员认为，基因缺陷导致牛皮癣病与心脏病之间建立了“密切”联系”符合。D项属于语意偷换。“使得”不符合原文最后一句话“此次瑞典科研人员在对600名新近被确诊患有牛皮癣病时间不足1年的人进行的研究中发现，这些患者血液中的胆固醇水平从一开始就很高。”故正确答案为D。

考点 细节判断题

78、正确答案是C，

统计 全站数据：本题共被作答1933次，正确率为40.92%，易错项为D

解析 A项逻辑偷换，原文中“以及直接将种植义齿插入上下颌骨以替代缺少的牙齿”的“以及”偷换成“或”。B项说学者们的研究取得成果，但是原文只是提及“学者们开始从器官发育的角度出发，根据目前已知的与牙齿发育相关的分子机制，探索将干细胞技术与组织工程学技术相结合应用于牙齿的修复和再生研究。”D项属于语意偷换。原文最后一句话只是说“学者们开始探索将非牙源性干细胞替代牙源性上皮干细胞应用于牙齿再生研究。”，并非是“使用非牙源性干细胞替代牙源性上皮干细胞应用于牙齿再生”C项与原文第二段的语句“根据牙齿的发育特征，牙齿再生需要牙源性的上好处费干细胞和牙源性的间充质干细胞。目前研究表明，牙源性的间充质干

广东公务员考试网整理，应用商店搜索“公考通”，下载安装手机 APP 做题更方便

细胞可应用于牙齿再生，例如牙髓干细胞和牙周韧带干细胞。”符合。故正确答案为C。

考点 细节判断题

79、正确答案是B，

统计 全站数据：本题共被作答3619次，正确率为74.74%，易错项为D

解析 第一步：读文段找出主旨句

第一句和第二句间有转折关联词“可是”，说明第二句更重要。第二句和第三句间有转折关联词“可是”，说明“可是”后面“不读书那一层是无须劝驾了”为重点。

第二步：选择与主旨含义相同的选项

B项表达了作者的观点。文段最后一句，说明作者不赞同泰戈尔的做法——劝人少读书。故正确答案为B。A、C项为无关选项。D项不是作者想表达的观点。

考点 态度理解题

80、正确答案是D，

统计 全站数据：本题共被作答2182次，正确率为42.53%，易错项为B

解析 第一步，读文段找出主旨句

文段第一句、第二句事提出问题+解决问题的文段类型，重点在第二句解决问题的表述上，也是文段的主旨。条件关联词“需要”引导，说明这是引出对策的语句。即城市管理者认真思考和积极研究是对策。

第二步，选择与主旨含义相同的选项

D项，是对原文主旨的同义替换，说明解决问题的对策是城市管理者认真思考和积极研究。

考点

表面主旨题

81、正确答案是C，

统计 全站数据：本题共被作答2088次，正确率为57.57%，易错项为B

解析 A项与原文“中国古代都城的规划建设，特别注重的是突出皇权至上的思想”符合。B选与原文“追溯天安门的历史，不能不提到古都北京的历史与演变。”符合。D选与原文“天安门就是这种建筑的典型形式”相符。C项属绝对化表述。“作为一座历史悠久的古都，北京城每一处古城垣都体现出历代的精心设计和巧妙构思”。表述绝对，不符合原文，原文是说“天安门和北京城的每一外古城垣一样，都在历史的长河中烙下了深深的印记。”故正确答案为C。

考点 细节判断题

82、正确答案是D，

统计 全站数据：本题共被作答2121次，正确率为76.24%，易错项为C

解析 我们阅读文段可知，文段的重点在最后一句话，那么依据最后一句话的内容“存储方式由传统直连式走向分离式存储”，可以判断论述主题是“分离式存储”，排除A、B项。最后一句话是首次提到“分离式存储”，所以下文应该是介绍“分离式存储”。故正确答案为D。

考点 隐含主旨题

83、正确答案是C，

统计 全站数据：本题共被作答2187次，正确率为52.81%，易错项为B

解析 第一步，读文段找到主旨句

文段第一句、第二句是设问句式。重点在答的部分。即重点是“主要原因可能在于社会转型期缺乏公共空间发育的不成熟性。”第三句论述的重点是特殊和共性。而第四句、第五句只是对第三句的解释说明。

第二步，选择与主旨含义相同的选项

C项，是原文主旨的同义替换。A、B项属无中生有。文段类型是观点类文段，D项以偏概全，只是其中一个解释说明。故正确答案为C。

考点 隐含主旨题

84、正确答案是D，

统计 全站数据：本题共被作答987次，正确率为55.62%，易错项为B

解析 A项与原文“由于商业、手工业、农林牧渔业等行业自古已有，所以这些行业的术语比较陈旧，且大多由土语或借入语构成，已经融入了大众的日常用语中。”不相符；B项属于无中生有，原文没有提及；C项与原文“无论是经济、艺术亦或科技，每个行业都有专业术语。”不符合；D项与原文“已经融入了大众的日常用语中”符合。故正确答案选D。

考点 细节判断题

85、正确答案是C，你的答案是D。回答错误

统计 全站数据：本题共被作答988次，正确率为40.28%，易错项为D

解析 A项为表述绝对化，B项与原文“法律、医学、神学和哲学领域的一些专业术语也在源远流长的历史发展中被受过良好教育的阶层所熟知应用”不符。D项语意偷换。专业术语的普及可以从原文找出：“所以这些行业的术语比较陈旧，且大多由土语或借入语构成，已经融入了大众的

广东公务员考试网整理，应用商店搜索“公考通”，下载安装手机 APP 做题更方便

日常用语中。”“但由于我们对其熟悉度较高，比起其他行业的术语则更容易被我们理解。”“法律、医学、神学和哲学领域的一些专业术语也在源远流长的历史发展中被受过良好教育的阶层所熟知应用，继而将其中一部分融入到大众词汇中。”C项与原文“这些术语在最近的五十年内明显增多，尤其是在自然科学、行政学以及机械技术等领域。”相符。故正确答案为C。

考点 细节判断题

86、正确答案是D，

统计 全站数据：本题共被作答847次，正确率为76.62%，易错项为C

解析 根据文段资料，“2009年，农业增加值1883.4亿元，比上年增长2.7%”，可得上年农业增加值=1883.4÷(1+2.7%)≈1883.4-1833.4*2.7%≈1883-1883÷40=1883-47=1836，与D项最为接近，故正确答案为D。

考点 数值计算型

乘除相抵法

乘除相抵法，指在乘除运算中，通过同时对相乘或相除的两个数据按一定方向进行放缩，而保证一定计算精确的近似算法方法。乘除相抵法的主要原则如下：

1. 相乘的两数据，扩大（或缩小）其中一个乘数时，则缩小（或扩大）另一个乘数；
2. 相除的两数据，扩大（或缩小）被除数时，则扩大（或缩小）除数；
3. 扩大或缩小数据时，尽量对从左至右到相同的第N位进行变化，与小数点位置无关。

87、正确答案是A，

统计 全站数据：本题共被作答822次，正确率为58.76%，易错项为B

解析 根据材料第一段，2008年林业增加值为：71.3÷(1+9.8%)≈71.3÷1.1≈65；2008年牧业增加值为：691.1÷(1+5.2%)≈691-691*0.05≈691-35=656；2008年渔业增加值为：459.8÷(1+6.1%)≈459÷106=433；根据第一题可知2008年农业增加值为1834。故2008年农林牧渔业总增加值为：1834+65+656+433=2988，故正确答案为A。

考点 数值计算型

直除法

直除法，指在比较或者计算较复杂分数时，通过“直接相除”的方式得到商的首位（首一位或首两位），从而得出正确答案的速算方式。

适用环境：比较多个分数大小、并且分数量级相当；计算分数值，且选项中首位不同。

88、正确答案是C，

广东公务员考试网整理，应用商店搜索“公考通”，下载安装手机 APP 做题更方便

统计 全站数据：本题共被作答807次，正确率为53.41%，易错项为A

解析 根据材料第一段，农林牧渔总增加值2009年比2008年总计增加： $(1883-1834) + (71.3-65) + (691-656) + (460-433) = 117$ ；农林牧渔服务业2009年比2008年增加 $\approx (121 * 0.1) \div 1.1 = 11$ 。则总计增加了 $117+11=128$ 亿元，故正确答案为C。

考点 数值计算型

增长量 增长量，指现期量与基期量之差。它说明某一指标在一定时期内增长（或减少）的绝对量。其计算公式为：增长量=现期量-基期量。

89、正确答案是B，

统计 全站数据：本题共被作答818次，正确率为56.11%，易错项为A

解析 根据材料倒数第二句：“2009年，蔬菜产量8937.2万吨，比上年增长3.5%，增速加快0.8个百分点”，可知2008年蔬菜增长率为 $3.5\% - 0.8\% = 2.7\%$ ，则2007年蔬菜产量 $= 8937.2 \div 1.035 \div 1.027$ 。选项差距较小，需要精确计算，计算列式后解得为8408，故正确答案为B。

考点 数值计算型

增长量 增长量，指现期量与基期量之差。它说明某一指标在一定时期内增长（或减少）的绝对量。其计算公式为：增长量=现期量-基期量。

90、正确答案是D，

统计 全站数据：本题共被作答814次，正确率为54.05%，易错项为C

解析 根据材料表述，可列式为： $\frac{(2268.6 * 1.013)}{(4316.3 * 1.019)} < 2268.6 / 4316.3 \approx 2268 \div 4316 \approx 52.5\%$ ，小于52.5%的只有D项，故正确答案为D。

考点 数值计算型

直除法

直除法，指在比较或者计算较复杂分数时，通过“直接相除”的方式得到商的首位（首一位或首两位），从而得出正确答案的速算方式。

适用环境：比较多个分数大小、并且分数量级相当；计算分数值，且选项中首位不同。

91、正确答案是C，

统计 全站数据：本题共被作答1034次，正确率为90.04%，易错项为D

解析 直接读图可知，A、B选项正确；D项：二五与三五时期的钢产量总和 $= 5990 + 6597 > 12000$ ，大于四五时期钢产量，故D项正确；C项表述错误，三五时期并不处于钢产量正中位置。故正确

广东公务员考试网整理，应用商店搜索“公考通”，下载安装手机 APP 做题更方便

答案为C。

考点 比较大小型

比重

比重，指部分在整体中所占的分量，它是描述相对性统计指标的一种形式，通常以百分数表示

若整体指标为 C，各部分指标 $M_i (i=1,2,3,\dots,n)$ ，那么各部分的比重为 $\frac{M_i}{C}$ 。

92、正确答案是A，

统计 全站数据：本题共被作答1033次，正确率为85.09%，易错项为C

解析 观察图表，六五时期钢产量是一五时期的： $20265 \div 1667 \approx 2 \div 0.167 \approx 2 \times 6 = 12$ ，故正确答案为A。

考点 数值计算型

比重

比重，指部分在整体中所占的分量，它是描述相对性统计指标的一种形式，通常以百分数表示

若整体指标为 C，各部分指标 $M_i (i=1,2,3,\dots,n)$ ，那么各部分的比重为 $\frac{M_i}{C}$ 。

93、正确答案是D，

统计 全站数据：本题共被作答1027次，正确率为90.07%，易错项为C

解析 根据题干要求，直接列式为： $20265+14758+11494-6597-5990-1667$ ，选项差距较大，可四舍五入保留三位有效数字求解，则原式

$\approx 20300+14800+11500-6600-6000-1700=46600-14300=32300$ ，与D项最为接近，故正确答案为D。

（尾数法计算更为快速： $5+8+4-7-7=17-14=3$ ，只有D项尾数为3）

考点 数值计算型

尾数法

尾数法，指通过计算数学式中各项数字的尾数来确定答案的一种方法。它主要适用于两种情况：

（1）题目如果正常求解，非常繁琐。但是题目刚好满足四个选项的尾数不一样，就可以通过尾数法求解

（2）题目中存在几个较大的数字的较大次幂相加减组成的一个数学式，可根据尾数数字的幂次规律求解。

广东公务员考试网整理，应用商店搜索“公考通”，下载安装手机 APP 做题更方便

94、正确答案是B，

统计 全站数据：本题共被作答1027次，正确率为76.34%，易错项为C

解析 “六五时期”比“五五时期”增长了： $(20265 \div 14758) - 1 \approx (203 \div 148) - 1 \approx 0.37$ ，排除A、C；
“四五时期”比“三五时期”增长了： $(11494 \div 6597) - 1 < 2 - 1 = 1$ ，则只有B项符合，故正确答案为B。

考点 数值计算型

插值法

插值法，指在计算数值或者比较数值大小时，运用一个中间值进行参照比较的速算方式。

适用环境：

- (1) 比较A 与B 时，如果可以找到数C，并且容易得到 $A > C$ ，而 $B < C$ ，即可以判定 $A > B$ 。
- (2) 计算一个数值F时，选项给出两个较近的数A 与B 难以判断，但我们可以容易地找到A 与B 之间的一个数C，比如说 $A < C < B$ ，并且我们可以判断 $F > C$ ，则我们知道 $F > B$ （另外一种情况类比可得）。

95、正确答案是D，

统计 全站数据：本题共被作答1025次，正确率为77.17%，易错项为C

解析

A项：“三五时期”相比“二五时期”的增长率为： $(6597 \div 5990) - 1 \approx (66 \div 60) - 1 = 10\%$ ，故增幅不超过20%表述正确；

B项：直接读图可知，钢产量首次突破5000万吨是在“二五时期”，表述正确；

C项：“二五时期”是“一五时期”钢产量的 $6 \div 1.67 \approx 3.6$ 倍，则增长率为260%，明显大于其他时期，故C项表述正确；

A、B、C三项表述均正确，故只能选择D项。验证：通过相加，六个五年计划完成的钢产量约为： $0.17 + 0.6 + 0.66 + 1.15 + 1.48 + 2.03 = 6.09$ 亿吨，远未达到7亿，正确答案为D。

考点 综合推断型

估算法

估算法，指精度要求不高的情况下、进行粗略估值使用的一种方法。一般在选项差异较大或被比较的数据相差比较大的情况下使用。

96、正确答案是B，

统计 全站数据：本题共被作答876次，正确率为85.84%，易错项为D

解析 读图可知，广州、深圳、佛山三市的科技项目占广东总数的： $23.5\% + 19.5\% + 11.8\% = 54.8\%$ ，故正确答案为B。

广东公务员考试网整理，应用商店搜索“公考通”，下载安装手机 APP 做题更方便

考点 数值计算型

比重

比重，指部分在整体中所占的分量，它是描述相对性统计指标的一种形式，通常以百分数表示

若整体指标为 C ，各部分指标 $M_i (i=1,2,3,\dots,n)$ ，那么各部分的比重为 $\frac{M_i}{C}$ 。

97、正确答案是A，

统计 全站数据：本题共被作答872次，正确率为66.17%，易错项为B

解析 广州、佛山、深圳三市的新产品开发数占广东省总数的： $(23.1+21.7+12.8)\%$ ；珠三角的新产品开发数占广东省总数的：86%。则二者的比例为： $(23.1+21.7+12.8)\%/86\%=57.6/86\approx 67\%$ ，故正确答案为A。

考点 数值计算型

比重

比重，指部分在整体中所占的分量，它是描述相对性统计指标的一种形式，通常以百分数表示

若整体指标为 C ，各部分指标 $M_i (i=1,2,3,\dots,n)$ ，那么各部分的比重为 $\frac{M_i}{C}$ 。

98、正确答案是C，

统计 全站数据：本题共被作答868次，正确率为81.22%，易错项为D

解析 从图中查找，新开发项目数在广东省所占比例排在珠三角地区第六位的城市为惠州。故正确答案为C。

考点 比较大小型

特殊性表达

一、增长最多/增长最快：最多是指绝对量；最快是指相对量

二、一定正确（错误）：无法确定的选项不是答案；可能正确（错误）无法确定的选项即为答案

三、每...../平均.....。此类问题，都是后一个量除以前一个量

四、以上说法都正确/都不正确

此类题干，选项中如果出现以上说法都正确或A/B选项都正确的时候，要考虑是否选此类选项

五、“从材料当中（不）可以得到”

广东公务员考试网整理，应用商店搜索“公考通”，下载安装手机 APP 做题更方便

此类题干，选项表述正确的不一定选，所选选项正确性应从材料中得到完全验证，但反过来，不符合的选项是肯定不选的。

99、正确答案是C，

统计 全站数据：本题共被作答868次，正确率为90.67%，易错项为A

解析 从图中查找，各类科技项目的数目在广东省所占比例都是珠三角地区中最低的城市是肇庆，故正确答案为C。

考点 直接查找型

特殊性表达

一、增长最多/增长最快：最多是指绝对量；最快是指相对量

二、一定正确（错误）：无法确定的选项不是答案；可能正确（错误）无法确定的选项即为答案

三、每...../平均.....。此类问题，都是后一个量除以前一个量

四、以上说法都正确/都不正确

此类题干，选项中如果出现以上说法都正确或A/B选项都正确的时候，要考虑是否选此类选项

五、“从材料当中（不）可以得到”

此类题干，选项表述正确的不一定选，所选选项正确性应从材料中得到完全验证，但反过来，不符合的选项是肯定不选的。

100、正确答案是D，回答正确

统计 全站数据：本题共被作答862次，正确率为64.27%，易错项为C

解析 A项：珠三角地区个项目所占比例都达到80%以上，故“珠三角地区是广东省科技发展的主要力量”表述正确；

B项：广东省各地区项目数比例相差较大，发展不平衡，故B项表述正确；

C项：读图计算，在科技项目数、新产品开发项目数、R&D项目数三个项目中，广州与深圳各项目数之和均占珠三角地区项目总数的一半以上，故C项表述正确；

D项：珠海在各项目数的比重中，比值较低，故不能称之为“广东省的科技核心”，D项表述错误，故正确答案为D。

考点 综合推断型

特殊性表达

一、增长最多/增长最快：最多是指绝对量；最快是指相对量

二、一定正确（错误）：无法确定的选项不是答案；可能正确（错误）无法确定的选项即为答

广东公务员考试网整理，应用商店搜索“公考通”，下载安装手机 APP 做题更方便
案

三、每...../平均.....。此类问题，都是后一个量除以前一个量

四、以上说法都正确/都不正确

此类题干，选项中如果出现以上说法都正确或A/B选项都正确的时候，要考虑是否选此类选项

五、“从材料当中（不）可以得到”

此类题干，选项表述正确的不一定选，所选选项正确性应从材料中得到完全验证，但反过来，不符合的选项是肯定不选的。